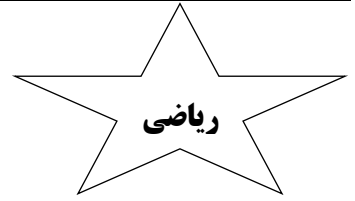


یاد خدا، دل ها را آرامش می بخشد. (قرآن کریم)



۳۹۴۰۵۶

۱- پسر م با توجه به عدد مقابل به سوالات زیر پاسخ دهید.

- بزرگ ترین رقم در چه مرتبه ای است؟
..... رقم صدگان هزار آن چند است؟
..... در بیش ترین مرتبه چه رقمی قرار دارد؟
..... در کم ترین مرتبه چه رقمی قرار دارد؟

۲- هر یک از الگوهای زیر را ادامه دهید.

۷۲۰۰ - ۷۸۰۰ - ۸۴۰۰ - _____

۸۶۸۰ - ۸۵۷۰ - ۸۴۶۰ - _____

۳- بزرگ ترین عدد شش رقمی که طبقه ی هزار آن ارقام (۵ و ۶ و ۳) و دهگان آن رقم ۴ باشد، کدام است؟

۳۶۵۹۴۸ (ت)

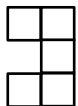
۶۵۳۹۴۹ (پ)

۵۶۳۹۴۹ (ب)

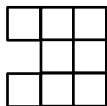
۶۵۳۴۹۹ (الف)

۴- فرض کنید که گنجایش مخزن آب یک ماشین آتش نشانی ۴۸۵۰۰۰ لیتر است، اگر در این مخزن ۱۵۸۹۷۶ لیتر آب وجود داشته باشد، چه مقدار دیگر آب لازم است که این مخزن پر شود؟

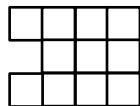
۵- پسر م شکل ششم الگوی زیر را رسم کنید.



شکل (۱)



شکل (۲)



شکل (۳)

۶- عدد زیر را به صورت گسترده بنویسید.

۷۴۹۰۰۳ : _____