



۱- در جمله ی مقابل کدام کلمه منادا می باشد ؟ ((خدایا : مرا به راه راست هدایت کن تا رستگار شوم))

الف) رستگار شوم ب) هدایت کن ج) خدا د) خدایا

۲- کدام کلمه ی زیر با بقیه تفاوت بیشتری دارد ؟

الف) تختخواب ب) روزنامه ج) دانشگاه د) کتابخانه

۳- در ضرب المثل ((ادب از که آموختی ؟ از بی ادبان)) کدام کلمه حذف شده است ؟

الف) آموختی ب) آموخت ج) است د) آموختم

۴- به کدام یک از کلمات زیر می توان ((گار)) اضافه کرد ؟

الف) آرام ب) پرورد ج) فدا د) آموزش

۵- کدام یک از کلمات زیر با ((ات)) جمع بسته نمی شود ؟

الف) اطلاع ب) تغییر ج) تعطیل د) سبزی

۶- کدام کلمه با بقیه کلمات تفاوت بیشتری دارد ؟

الف) قربانگاه ب) شامگاه ج) صبحگاه د) سحرگاه

۷- به کدام یک از کلمات زیر نمی توانیم ((مند)) اضافه کنیم ؟

الف) ثروت ب) کم ج) قدرت د) دانش

۸- کدام کلمه ی زیر به معنی ((بی ارزش و زشت)) است .

الف) جاهل ب) غافل ج) خوار د) خار

۹- کدام یک از ترکیب های زیر در معنی با بقیه تفاوت بیشتری دارد؟

الف) بازدیدن ب) بازداشتن ج) بازگفتن د) بازبودن

۱۰- در جمله ی ((در روزگاران قدیم مردم با اسب سفر می کردند .)) فعل کدام است ؟

الف) سفر می کردند ب) روزگاران ج) با اسب د) مردم

۱۱- راه آهن سراسری در شمال ایران به کدام بندر متصل می شود ؟

الف) بندر انزلی ب) بندر ماه شهر ج) بندر ترکمن د) بندر خرمشهر

۱۲- به خرید و فروش در داخل کشور یا با کشورهای دیگر چه می گویند؟

الف) صادرات (ب) بازرگانی (ج) واردات (د) حمل و نقل

۱۳- رودی که به دریاچه بختگان می ریزد چه نام دارد؟

الف) رود کر (ب) رود کارون (ج) رود جاجرود (د) تلخه رود

۱۴- کدام ناحیه آب و هوایی ایران وسعت کمتری دارد؟

الف) کوهستانی (ب) گرم و خشک (ج) کناره ی دریای خزر (د) دریاچه ی قم

۱۵- از جاری شدن آب بر روی زمین کدام مورد زیر به وجود می آید؟

الف) جویبار (ب) جلگه (ج) آبرفت (د) رود

۱۶- رشته کوه زاگرس در کدام سمت ایران قرار دارد؟

الف) در مغرب و جنوب غربی (ب) در مشرق و جنوب شرقی

ج) در جنوب و جنوب شرقی (د) در شمال و شمال غربی

۱۷- شهر اراک مرکز کدام استان می باشد؟

الف) استان همدان (ب) استان لرستان (ج) استان مرکزی (د) استان کردستان

۱۸- واحد اندازه گیری میزان بارندگی کدام گزینه می باشد؟

الف) میلیمتر (ب) متر (ج) سانتیمتر (د) لیتر

۱۹- ایران از نظر آب و هوایی به چند ناحیه تقسیم می شود؟

الف) دو ناحیه (ب) سه ناحیه (ج) چهار ناحیه (د) پنج ناحیه

۲۰- کدام محصول زیر از محصولات استان گیلان نمی باشد؟

الف) برنج (ب) زیتون (ج) چای (د) پنبه

تاریخ

۲۱- کدام مورد زیر باعث شد که انسان در یک جا ساکن شده و خانه بسازد؟

الف) پیدایش روستاها (ب) اهلی شدن حیوانات

ج) کشف آتش (د) آغاز کشاورزی



۲۲- مهم ترین علت به وجود آمدن قانون کدام مورد زیر بود ؟

الف) گرفتن مالیات (ب) برقراری نظم (ج) حکومت بر مردم (د) همه ی موارد

۲۳- شهر صد دروازه پایتخت کدام سلسله بود ؟

الف) هخامنشیان (ب) ساسانیان (ج) اشکانیان (د) سامانیان

۲۴- کدام یک از پادشاهان دین زردشت را در ایران رسمی کرد ؟

الف) انوشیروان (ب) کوروش (ج) داریوش (د) اردشیر

۲۵- در دوره ساسانیان مردم به چند طبقه تقسیم می شدند ؟

الف) دو طبقه (ب) سه طبقه (ج) چهار طبقه (د) یک طبقه

۲۶- دین اسلام به کدامیک از موارد زیر بیش از بقیه اهمیت داده است ؟

الف) مدرسه (ب) جامعه (ج) مدرسه (د) خانواده

۲۷- در مسجد کدام موارد زیر وجود دارد ؟

الف) خداپرستی (ب) همکاری و هم دلی (ج) نظم و آموزش (د) همه موارد

۲۸- کودکان در کجا از تربیت، محبت و اخلاق خوب بهره مند می شوند ؟

الف) مسجد (ب) مدرسه (ج) خانواده (د) مدرسه

۲۹- امت اسلامی در چه مواردی با هم مشترک هستند ؟

الف) خدا (ب) قبله (ج) پیامبر(ص) (د) همه موارد

۳۰- کدام گزینه ی زیر محل تعلیم و تربیت است ؟

الف) مدرسه (ب) خانواده (ج) مسجد (د) جامعه

۳۱- یک ذره بین اشیاء را چند برابر بزرگ می کند ؟

الف) ۱۰ برابر (ب) ۱۰۰ برابر (ج) ۲۰۰ برابر (د) ۱۰۰۰ برابر

۳۲- کدام قسمت گیاه از سلول های مستطیل شکل تشکیل شده است ؟

الف) روی برگ (ب) قسمت درونی برگ (ج) پشت برگ (د) در همه جای گیاه

۳۳- از کدام جانوران زیر برای مقابله با آفت ها استفاده می شود ؟

الف) عقرب ب) نوعی سوسک ج) عنکبوت د) نوعی سوسک و عنکبوت

۳۴- بی مهرگان به چند گروه تقسیم می شوند ؟

الف) شش گروه ب) پنج گروه ج) چهار گروه د) سه گروه

۳۵- به کدام یک از گزینه های زیر محلول می گویند ؟

الف) آب و نشاسته ب) آب و هویج ج) آب و روغن د) آب و قند

۳۶- کدام یک از وسایل زیر به طور منظم نور را باز تابش می کند ؟

الف) کاغذ سفید شفاف ب) شیشه ی اتاق ج) آینه د) همه ی موارد

۳۷- کدام یک از مواد زیر کانی نیست ؟

الف) گچ دیوار ب) نوک مداد ج) زغال چوب د) نمک آشپز خانه

۳۸- کره زمین چندمین سیاره نزدیک به خورشید است ؟

الف) سومین ب) چهارمین ج) پنجمین د) ششمین

۳۹- کدام مورد زیر از بدن در برابر میکروب ها محافظت می کند ؟

الف) گلبول قرمز ب) پلاسما ج) ویتامین ها د) گلبول سفید

۴۰- محل قرار گرفتن کلیه ها در بدن کجاست ؟

الف) داخل شکم پشت روده ها ب) داخل شکم پشت معده

ج) داخل شکم پشت معده و روده ها د) داخل شکم پشت کمر و دنده ها

۴۱- کدام عدد سیصد و سه میلیون و سیصد هزار و سیزده می باشد ؟

الف) ۳۰۳۳۰۰۱۳ ب) ۳۰۳۳۰۱۳ ج) ۳۰۳۳۱۳ د) ۳۰۳۳۰۰۰۱۳

۴۲- در شکل چند پاره خط می بینید ؟



الف) ۶ تا ب) ۳ تا ج) ۴ تا د) ۸ تا

۴۳- در جای خالی کدام عدد را قرار دهیم تا عدد حاصل بر ۳ بخش پذیر باشد ؟

97 O

الف) ۳ تا ب) ۷ تا ج) ۶ تا د) ۲ تا

۴۴- کدام کسر زیر با $\frac{1}{3}$ برابر است؟

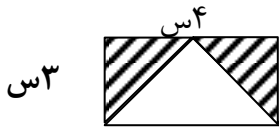
(د) $\frac{3}{6}$

(ج) $\frac{2}{9}$

(ب) $\frac{4}{12}$

(الف) $\frac{2}{3}$

۴۵- مساحت قسمت رنگی چند سانتیمتر مربع است؟



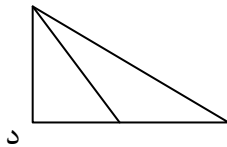
(د) ۱۰

(ج) ۳

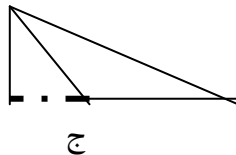
(ب) ۱۲

(الف) ۶

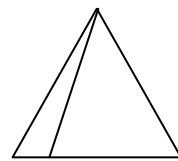
۴۶- در کدام شکل ارتفاع مثلث درست رسم شده است؟



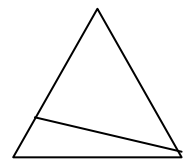
د



ج



ب



الف

۴۷- علی $\frac{2}{9}$ کتاب فارسی را دیروز و $\frac{1}{9}$ آن را امروز خواند. چه کسری از کتاب او باقی مانده است؟

(د) $\frac{3}{18}$

(ج) $\frac{6}{9}$

(ب) $\frac{6}{18}$

(الف) $\frac{3}{9}$

$6754 \div 21 =$

۴۸- باقیمانده ی تقسیم مقابل کدام عدد زیر است؟

(د) ۵

(ج) ۱۳

(ب) ۱۸

(الف) ۳۲

۴۹- در کدام شکل قطر ها نامساوی و بر هم عمود هستند؟

(د) متوازی الاضلاع

(ج) لوزی

(ب) مستطیل

(الف) مربع

۵۰- محیط مستطیلی ۴۰ سانتیمتر است. اگر طول آن ۱۲ سانتیمتر باشد آنگاه عرض مستطیل چند

سانتیمتر می شود؟

(د) ۴ سانتیمتر

(ج) ۲۰ سانتیمتر

(ب) ۱۰ سانتیمتر

(الف) ۸ سانتیمتر

موفق باشید