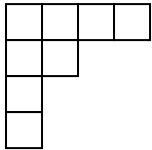




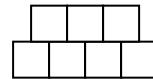
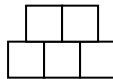
۱- در سبدی $0/775$ کیلوگرم توت فرنگی چیده ایم و وزن هر توت فرنگی تقریباً ۳۱ گرم است . اگر هر مهمان یک توت فرنگی بخورد . در سبد چند توت فرنگی چیده ایم ؟

۲- جعبه ای به شکل مکعب مستطیل به ابعاد ۱۸ ، ۱۶ ، ۱۰ سانتی متر را کاغذ کادو پیچیدیم . چند سانتی متر مربع کاغذ مصرف کرده ایم ؟

۳- مساحت شکل رو به رو ۵۱۲ سانتی متر مربع است . محیط شکل را به دست آور .



۴- با توجه به الگو ، شکل شماره ی صد و یکم از چند مربع کوچک ساخته شده است ؟



؟

۵- گرد شده ی عبارت زیر را با تقریب کمتر از $0/1$ به دست آور .

$$4 \frac{1}{3} + [3 \frac{1}{4} + 2 \times \frac{3}{5} \times \frac{1}{7}] \div 2 \frac{1}{3} \times \frac{2}{12} =$$

۶- فروشگاه‌های اجناس خود را با ۱۷٪ تخفیف می‌فروشند، جنسی را به قیمت ۱۶۶۰۰ تومان خریدیم.

چقدر تخفیف گرفتیم؟ قیمت اولیه جنسی چقدر بوده است؟

۷- دو سوم سه چهارم زمینی ۱۱۰۰ متر مربع است. تمام زمین چند هکتار است؟

۸- در جاهای خالی عدد مناسب بگذار.

۰/۸ کیلوگرم دسی متر

۵۰۰ کیلوگرم تن

۰/۳ هکتار متر مربع

۲/۷ دسی متر مربع سانتی متر

ارزیابی معلم	😊	☹️	😐
درست و صحیح نویسی			
تحویل به موقع			
زیبا نویسی و رعایت خط تحریری			
فعالیت ویژه			