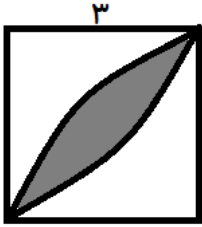
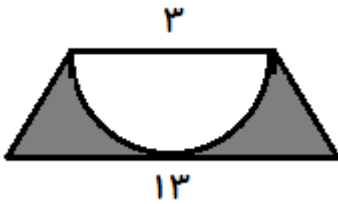




۱- اگر ضلع مربع ۳ سانتی متر باشد ، مساحت قسمت رنگی کدام است ؟

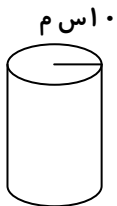


۲- مساحت قسمت رنگی را حساب کن .



۳- حجم مکعب مربعی به ضلع ۵۰ سانتی متر چند دسی متر مکعب است ؟

۴- مساحت استوانه ی زیر را به دست آور .



۵- درون یک مکعب به ضلع ۸ سانتی متر چند مکعب مستطیل به ابعاد ۲ و ۴ و ۱۶ قرار می گیرند

۶- ضرب های زیر را انجام بده .

$$0.008 \times 2/35 =$$

$$7 \times 0.128 =$$