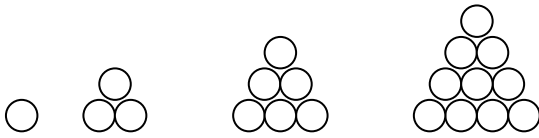
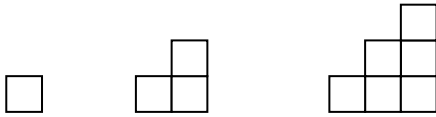




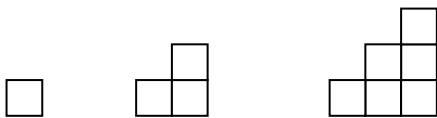
۱- شکل هشتم از چند دایره تشکیل شده است ؟



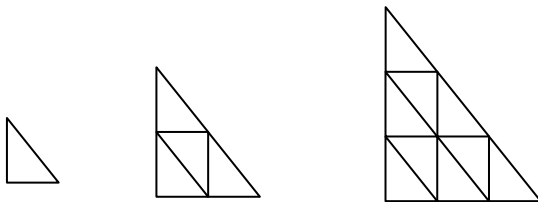
۲- شکل دهم چند مربع دارد .



۳- شکل چندم دارای ۲۱۰ مربع است ؟



۴- شکل هشتم چند مثلث دارد ؟



۵- الگوی عددی زیر را ادامه بده .

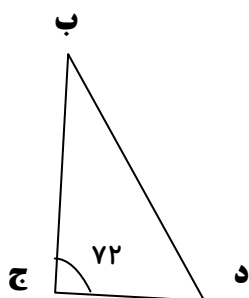
۳ ، ۹ ، ۲۷ ، ۸۱ ، ..... ، ..... ، ..... ، .....

۲ ، ۷ ، ۲۳ ، ۷۲ ، ..... ، ..... ، ..... ، .....

۲ ، ۸ ، ۱۴ ، ۲۰ ، ..... ، ..... ، ..... ، .....

۱ ، ۳ ، ۶ ، ۱۰ ، ..... ، ..... ، ..... ، .....

۶- در مثلث متساوی الساقین زیر اندازه ی زاویه ی ( ب ) چند درجه است ؟ ( با راه حل )



۷- حاصل جمع زیر را به کمک محور به دست آورید.

$$\frac{2}{7} + \frac{2}{3} =$$



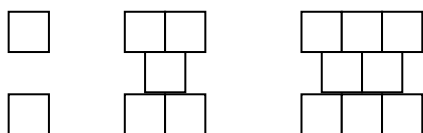
۳- تفاوت بزرگ ترین ۸ رقمی غیر تکراری و بزرگ ترین عدد ۷ رقمی را به دست آور و حاصل آن را با حروف بنویس.

۴- با توجه به الگو محیط شکل هزارم چند سانتی متر است؟



هر ضلع مثلث کوچک یک سانتی متر است.

۵- با توجه به الگوی داده شده شکل ۱۵۰ چند مربع دارد؟



			درست و صحیح نویسی
			تحویل به موقع
			زیبا نویسی و رعایت خط تحریری
			فعالیت ویژه

