



۱- دور اعدادی که بر ۱۰ بخش پذیرند خط بکش .

۳۲، ۷۰، ۹۰۵، ۴۸۰۰، ۱۰۰۰۱

۲- دور اعدادی که بر ۶ بخش پذیرند خط بکش .

۱۶، ۴۸، ۳۱۲، ۸۳۱۰، ۶۳۹۵۱


۳- در جای خالی چه اعدادی می توان قرار داد تا عدد  $\square ۴۳$  ،

- الف) بر ۲ بخش پذیر باشد .
- ب) بر ۵ بخش پذیر باشد .
- ج) بر ۳ بخش پذیر باشد
- د) بر ۹ بخش پذیر باشد .
- ه) بر ۱۰ بخش پذیر باشد .
- ی) بر ۶ بخش پذیر باشد .

۴- یک عدد دو رقمی بنویسید:

- که بر ۲، ۳، ۵ بخش پذیر باشد .
- بر ۲، ۵، ۹ بخش پذیر باشد .

۵- مکان تقریبی عدد  $۰/۷۹$  را روی محور نشان بده .

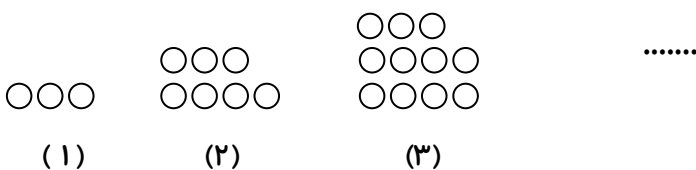
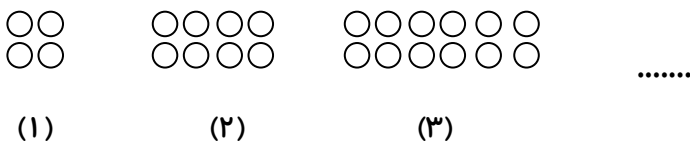


۶- اگر نهمین مضرب عددی ۵۴ باشد مضرب های خواسته شده ی آن چند است ؟

مضرب پنجم :

مضرب هفتم :

۷- در الگوهای شکلی زیر شکل سی و چهارم، چهاردهم و هشتم از چند دایره تشکیل می شود ؟



۸- در الگوهای عددی زیر ، عدد نوزدهم ، هفتم و چهارم چند است ؟

۱، ۵، ۹، ۱۳، .....

۵، ۸، ۱۱، ۱۴، .....

۹- الگوی عددی زیر را ادامه بده .

۱، ۸، ۲۷، ..... ، .....

۱، ۲، ۳، ۵، ۸، ۱۳، ..... ، .....

۲، ۷، ۱۷، ۳۲، ..... ، .....

ارزیابی معلم	😊	☹️	😐
درست و صحیح نویسی			
تحویل به موقع			
زیبا نویسی و رعایت خط تحریری			
فعالیت ویژه			