


ریاضی



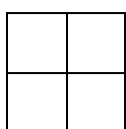
۱- عبارات زیر را به صورت عدد مخلوط نشان بده .

الف) یک متر و ۴۵ سانتی متر

ب) ۶ کیلو و ۳۷۰ گرم

ج) ۷۴۱۶ گرم کیلو و گرم یا

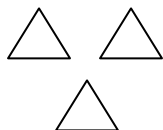
۲- با توجه به واحد برای هر عدد مخلوط شکل بکش (با استفاده از خط کش یا شابلون)



$$\frac{3}{2}$$



$$\frac{2}{4}$$



$$\frac{2}{3}$$

۳- به سوال های زیر پاسخ بده .

الف) کسری بنویس که صورت آن خمس مخرج آن باشد

ب) کسری بنویس که صورت آن ثلث مخرج آن باشد

ج) کسری بنویس که صورت آن ربع مخرج آن باشد

۴- آموزگار از حسن خواست برنامه مطالعه دانش آموزان را بنویسد ، حسن به این شکل نوشت .

درسی $\frac{2}{8}$

مذهبی $\frac{5}{8}$

علمی $\frac{3}{8}$

داستانی $\frac{7}{8}$

تاریخی $\frac{4}{8}$

الف) چه کسری از دانش آموزان کتاب های علمی و درسی خوانده اند ؟

ب) چه کسری از دانش آموزان کتاب های داستانی و درسی خوانده اند ؟

ج) بیشترین و کمترین کتاب هایی که خوانده شده ، کدامند ؟

۵- با توجه به واحد داده شده در داخل پرانتز ، برای هر یک از موارد خواسته شده عدد مخلوط بنویس .

- الف) دو هفته و چهار روز : (هفته)
- ب) یک سال و هفت ماه : (سال)
- ج) هفده ساعت و چهل و پنج دقیقه : (ساعت)

ارزیابی معلم	😊	☹️	😐
درست و صحیح نویسی			
تحویل به موقع			
زیبا نویسی و رعایت خط تحریری			
فعالیت ویژه			