



## ریاضی

۱- حاصل عبارت زیر را به دست آور.

$$\frac{3}{9} \times \frac{1}{3} =$$

$$(2 \times \frac{1}{6}) + (1 \frac{3}{12}) =$$

۲- ضرب های زیر را به روش فرآیندی حل کن.

۳۹

۷۶

 $\times 43$  $\times 24$ 

$$24 \times 12 =$$

۳- ضرب زیر را به روش مساحتی حل کن و شکل مناسب رسم کن.

۴- اعداد زیر را با تقریب های خواسته شده، تقریب بزن.

تقریب هزارگان

تقریب صدگان

$$8765432 =$$

$$39262 =$$

$$12345678 =$$

$$254674 =$$

$$654987123 =$$

$$376526 =$$

۵- حاصل ضرب های زیر را به دست آور.

$$45 \times 90 =$$




$$360 \times 60 =$$

$$46 \times 300 =$$

$$5400 \times 200 =$$

۶- محصول میوه ی یک باغ ۲۴۰۰ کیلوگرم است . اگر باغ مجاور ۱۲ برابر آن محصول داشته باشد ، محصول این دو باغ روی هم چند کیلوگرم است ؟

۷- هر شانه تخم مرغ شامل ۳۰ تخم مرغ است . مغازه داری ۴۰ شانه تخم مرغ خرید، دانه ای ۱۰۰ تومان . هنگام حمل ۳۰ عدد از تخم مرغ ها شکست . تخم مرغ های سالم را دانه ای ۱۲۰ تومان فروخت . او از فروش تخم مرغ ها چند تومان سود کرده است ؟

			ارزیابی معلم
			درست و صحیح نویسی
			تحويل به موقع
			زیبا نویسی و رعایت خط تحریری
			فعالیت ویژه

