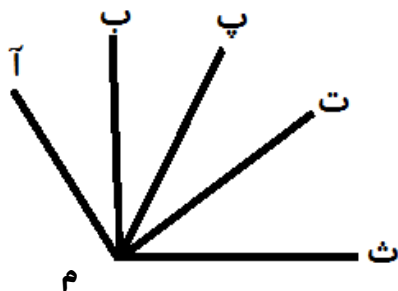




۱- در شکل زیر چند زاویه وجود دارد؟ آن‌ها را نام ببر و بنویس



۲- اعداد زیر را تقریب بزن. ()

۸۹۳۷۶۵۱۰ →

← هزارگان

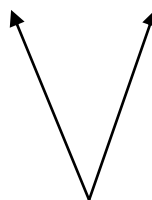
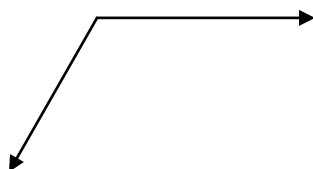
۴۵۳۱۷ →

← صدگان

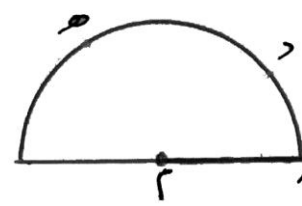
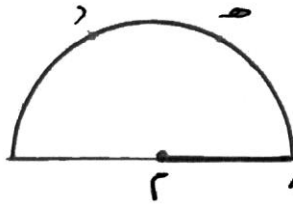
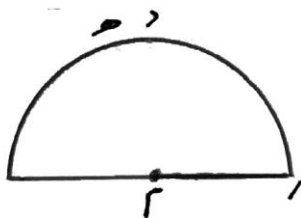
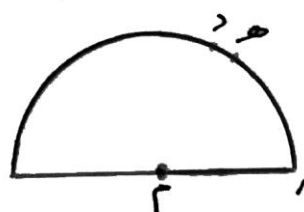
۳۵۱۲۹۸۳ →

← دهگان

۳- زاویه‌های زیر را نام گذاری کرده و بعد با نقاله اندازه گیری کن و بنویس. ()



۴- با توجه به علامت‌های مشخص شده در هر شکل زاویه‌ها را رسم کرده و بعد مقایسه کن. ()



(۱۸۰) > (۹۰)

(۱۸۰) > (۹۰)

(۱۸۰) > (۹۰)

(۱۸۰) > (۹۰)

۵- اجزای یک زاویه را نام ببر. (رومینا خورسند)

۶- زاویه‌های شکل زیر را نام ببر و رنگ آمیزی کن. (صبا امینیان)



۷- اگر در یک کلاس ۵ ردیف ۸ تایی صندلی تکی داشته باشیم و هنگام ورود دانش آموزان به کلاس فقط $\frac{3}{8}$ صندلی ها پر شود، چند صندلی خالی وجود دارد؟ ()



انتظارات	😊	☹️	😐
درست و صحیح نویسی			
تحويل به موقع			
زیبا نویسی و رعایت خط تحریری			
فعالیت ویژه			