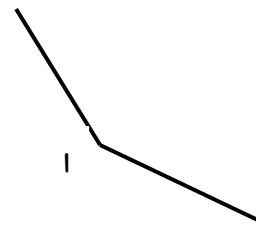
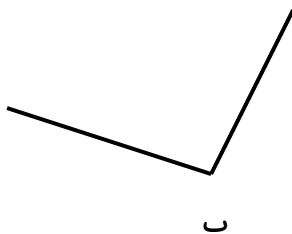

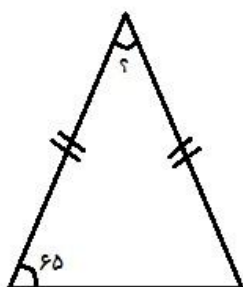




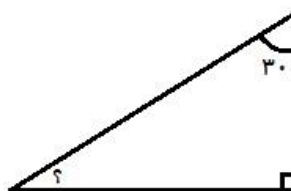
۱- زاویه های زیر را با نقاله اندازه بگیر و بنویس .



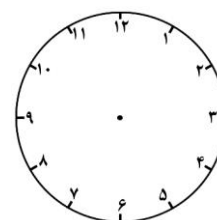
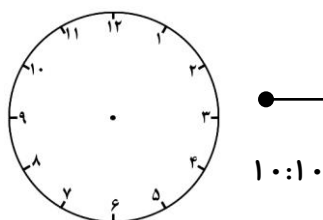
۲- در هر یک از شکل های زیر اندازه ی زاویه ای را که با علامت سوال مشخص شده حساب کن .



۳- اندازه ی زاویه های خواسته شده را حساب کن .



۴- ۴۰ دقیقه بعد از ساعت ۱۰:۱۰ را پیدا کن و نمودار و ساعت را کامل کن .



۵- از ساعت ۱:۴۰ تا ۲:۳۰ چند دقیقه فاصله است ؟ با رسم نمودار و ساعت .

۶- هر یک از زمان های زیر را به صورت تقریبی بنویس.

۶ ساعت و ۱۵ ثانیه به طور تقریبی برابر است با ساعت .

۴۰ دقیقه و ۵۰ ثانیه به طور تقریبی برابر است با دقیقه .

۵۸ ثانیه تقریباً برابر است با دقیقه .

۷- عبارات های درست و عبارات های نادرست را مشخص کن .

درجه ی $\frac{1}{18}$ زاویه ی نیم صفحه است .

با کنار هم قرار دادن دو زاویه تند یک زاویه ی نیم صفحه می توان ساخت .

زاویه ی بین عقربه های ساعت شمار و دقیقه شمار در ساعت ۵:۳۰ یک زاویه ی تند است .

یکی از زاویه های مثلث متساوی الاضلاع همیشه ۶۰ درجه است .

۸- در هر یک از شکل های زیر ، پرچم نسبت به وضعیت اولیه خود ، چند درجه چرخش داشته است ؟



انتظارات	😊	☹️	😐
درست و صحیح نویسی			
تحویل به موقع			
زیبا نویسی و رعایت خط تحریری			
فعالیت ویژه			

