




۱- در شکل زیر ، خط های ( ر ) و ( ش ) با هم موازی هستند . کدام زاویه ها با هم برابر هستند ؟ نتیجه را بنویس .



۲- جاهای خالی را با استفاده از تبدیل واحد ها پر کن . ( راه حل ها را بنویس .)

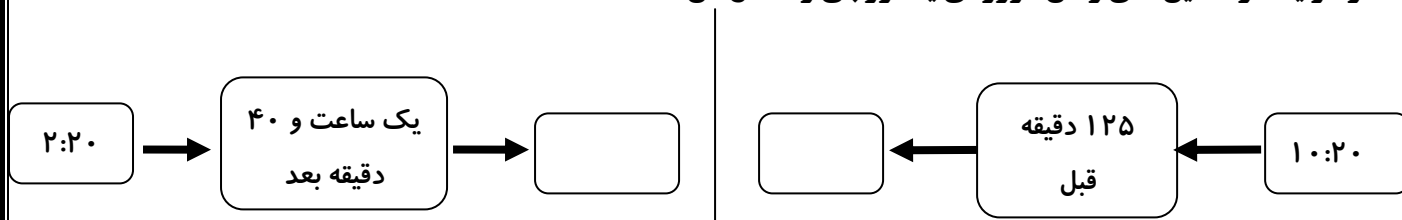
الف) ۱۰۰ ثانیه یعنی ..... دقیقه و ..... ثانیه

ب) ۱۵۰ دقیقه یعنی ..... ساعت و ..... دقیقه

ج) ۳ ساعت یعنی ..... ثانیه

۳- اگر شما پس از پایان وقت مدرسه با اتوبوس به سمت خانه حرکت کنید و ۵۰ دقیقه طول بکشد تا به خانه برسید ، در چه ساعتی به خانه می رسید؟ (پایان وقت مدرسه با توجه به زمانی است که شما از مدرسه خارج می شوید .)

۴- در هر یک از ماشین های زمان ، ورودی یا خروجی را کامل کن .



۵- از کارهایی که در طول روز انجام می دهید چند نمونه مثال بزنید که انجام آن ها کم تر از یک دقیقه طول می کشد .

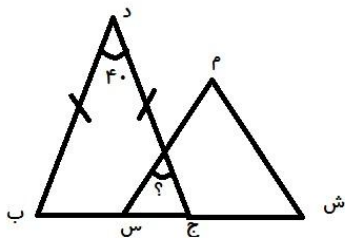
برای اندازه گیری زمان انجام این کارها از کدام واحد اندازه گیری زمان استفاده می کنیم ؟

۶- فرض کن دست های خود را به طرفین باز کرده و طوری ایستاده اید که صورت شما به سمت شمال است . در این صورت دست راست شما به سمت شرق و دست چپ شما به سمت غرب است .  
حال اگر بخواهید در جهت حرکت عقربه های ساعت بچرخید طوری که :

الف) جهت دست های شما جا به جا شود چند درجه باید بچرخید و صورت شما به سمت کدام جهت قرار خواهد گرفت ؟

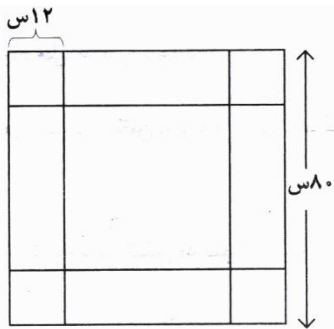
ب) اگر نسبت به وضعیت اولیه ۹۰ درجه بچرخید . دست راست شما در جهت ..... و دست چپ شما در جهت ..... قرار خواهد گرفت .

۷- مثلث ( د ج ب ) متساوی الساقین و مثلث ( م ش س ) متساوی الاضلاع است . با توجه به شکل اندازه ی زاویه ای که با

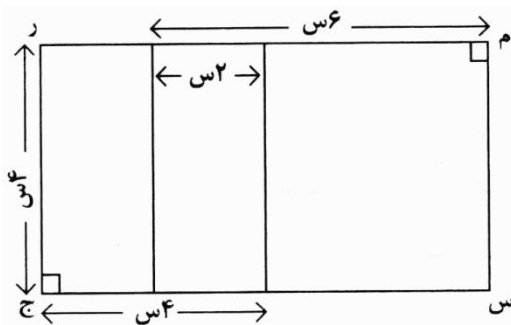


علامت سوال مشخص شده چند درجه است ؟

۸- محیط قسمت داخلی قاب عکس زیر چند سانتی متر است ؟



۹- محیط مستطیل ( م ر ج س ) چند سانتی متر است ؟



انتظارات	☹️	😊	☺️
درست و صحیح نویسی			
تحويل به موقع			
زیبا نویسی و رعایت خط تحریری			
فعالیت ویژه			