



به نام دانای زیبا آفرین

نام و نام خانوادگی :

تاریخ : ۹۵/۱۱/۱۳



کانال معلمیار | @MoallemYarIR

کلاس : پنجم



عددهای اعشاری زیر را با رقم بنویس .

سیصد و پنجاه و چهار و هفت دهم

هفت هزارم

یک صدم

سی و پنج هزار و هفتاد و پنج و پاصد و نود هزارم

به همین ترتیب ادامه بده .

۳/۲۳۷ ، ۳/۲۳۸ ، ۳/۲۳۹ ، ، ،

۰/۹ ، ۰/۹۲ ، ۰/۹۴ ، ، ،

۰/۹ ، ۰/۹۰۵ ، ۰/۹۱ ، ، ،

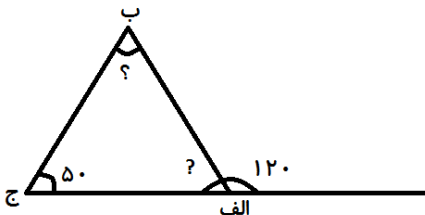
عددهای زیر را در جدول ارزش مکانی قرار بده .

۳۴۹۷/۰۵

۲۵۴۷۸/۱۳۶

۳۰٪ پولی برابر با ۸۱۰۰۰ تومان است ثلث کل آن پول چند تومان است ؟ (پارمیس ناصحی)

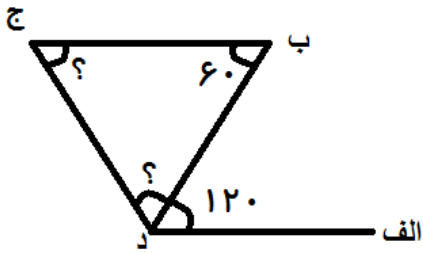
اندازه ی زاویه ی خواسته شده را بنویس . (سها زند)



نیم خطی که زاویه را به دو زاویه مساوی تقسیم می کند نامیده می شود . (کیمیا لشکری)

۴۰٪ عدد ۲۴۰ بیش تر است یا $\frac{۲}{۵}$ عدد ۳۵۰ ؟ (میشا رضایی)

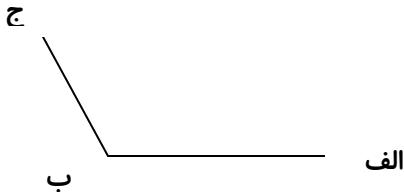
اندازه ی زاویه ی خواسته شده را به دست آور؟ (د)



حاصل جمع زیر را به دست آور . (هلنا فرین نیا)

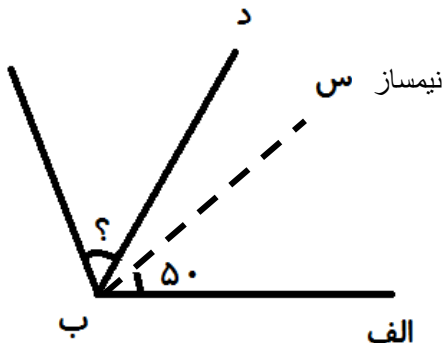
کیلومتر	متر	سانتی متر
۴۲	۸۰۰	۷۳
۱	۲۹۲	۳۸

نیمساز زاویه زیر را با پرگار و خط کش رسم کن . (بشرا هاشمی)



۳۵٪ از یک کیلومتر بر حسب متر چقدر می شود؟ (نیکی مرآت نیا)

نیم خط (ب س) نیمساز زاویه (الف ب د) است ، اندازه زاویه خواسته شده را به دست آور . (رونیا گلی جانی)



انتظارات	😊	☹️	😐
درست و صحیح نویسی			
تحویل به موقع			
زیبا نویسی و رعایت خط تحریری			
فعالیت ویژه			

