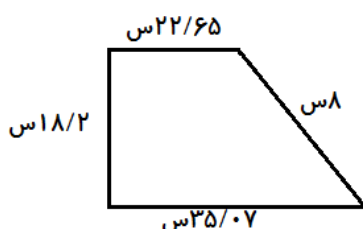




۱- جرم فرزانه  $43/05$  کیلوگرم و جرم مادرش  $12/5$  کیلوگرم بیشتر از جرم فرزانه است. آن ها روی هم چند کیلوگرم جرم دارند؟



۲- محیط شکل زیر را به دست آور .

۳- پدر علی  $18/25$  کیلوگرم سیب ، خیار و موز خرید اگر  $4/360$  کیلوگرم آن سیب و  $8/125$  کیلوگرم آن خیار باشد چند کیلوگرم موز خریده است ؟

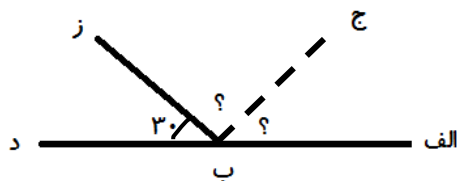
۴- یک جوش کار دو میله ی  $4/125$  متری و  $3/07$  متری را به هم جوش داد طول میله ی جدید چند متر است ؟

۵- مادر پریا  $5$  متر پارچه خرید  $1/35$  متر از آن را برای دوختن شلوار و  $2/328$  متر از آن را برای دوختن روپوش مصرف کرد چند متر پارچه برایش باقی مانده است ؟

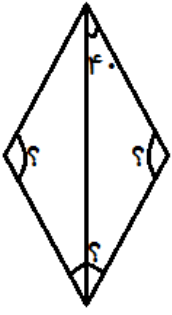
۶- حاصل جمع عددهای زیر را به دست آور

$4563$  و  $18/02$  و  $0/009$

۷- در شکل رو به رو اندازه ی زاویه ی ( الف ب ج ) را به دست آور ، نیم خط ( ب ج ) نیمساز است .



۸- اندازه زاویه های خواسته شده را به دست آور .



گسترده ی عدد های زیر را بنویس .

$$9/235 =$$

$$49/478 =$$

$$32/526 =$$

عددهای  $0/3$  و  $2/13$  را روی محور اعداد نمایش بده .

اعداد داده شده را از کوچک به بزرگ مرتب کن .

$$0/001 - 15/78 - 492/02 - 0/75 - 2/18 - 0/05$$

انتظارات	😊	😐	😞
درست و صحیح نویسی			
تحويل به موقع			
زیبا نویسی و رعایت خط تحریری			
فعالیت ویژه			