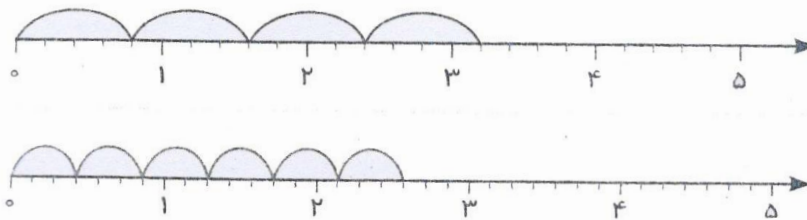

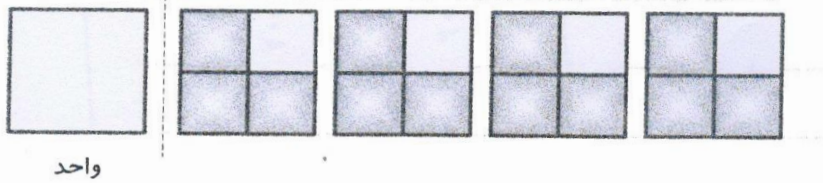


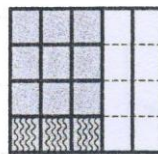



ریاضی

۱- ضرب مربوط به شکل ها و محور های زیر را بنویس و حاصل را به عدد مخلوط تبدیل کن.





۲- ضرب مربوط به هر شکل را بنویس.



۳- برای ضرب های زیر شکل مناسب بکش و حاصل را بنویس.

$$\frac{1}{3} \times \frac{3}{6} =$$

$$\frac{3}{5} \times \frac{4}{7} =$$



۴- در دبستان دخترانه ی فیروزه ی منطقه ی ۲ تهران از دانش آموزان کلاس پنجم که ۴۲ نفر می باشند ثلث آن ها در رشته ی والیبال و نصف آن ها در رشته ی دو میدانی شرکت کردند. کدام رشته طرفدار بیش تری دارد. دلیل خود را بنویس.