



ریاضی

۱- در زیر هر کدام از عددهای زیر، عددی بنویس که ۸۰ تا کم تر از عددهای داده شده باشد.

	۲۵۰	۳۳۳	۷۵۰	۳۹۰	۲۲۰	۱۱۰	۶۶۶
۸۰							

۲- جمع و تفریق های زیر را به صورت فرآیندی حل کن.

$$\begin{array}{r} ۸۹۱۰ \\ + ۱۰۰۹ \\ \hline \end{array}$$

$$\begin{array}{r} ۴۶۷۸ \\ + ۳۱۰۱ \\ \hline \end{array}$$

$$\begin{array}{r} ۷۹۱۷ \\ - ۱۰۰۷ \\ \hline \end{array}$$

$$\begin{array}{r} ۲۷۸۵ \\ - ۱۳۸۰ \\ \hline \end{array}$$

۳- نصف ۱۸ شکلات را بین ۳ نفر تقسیم کردیم. سهم هر نفر چند شکلات است؟

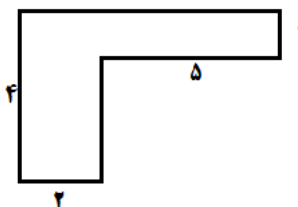
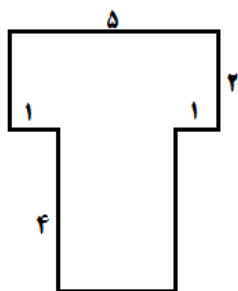
۴- احسان برای خریدن یک کتاب سه اسکناس ۱۰۰۰ ریالی و دو اسکناس ۵۰۰ ریالی به فروشنده داد، قیمت کتاب چند ریال بوده است؟

۵- علیرضا پنج بسته ی ۱۰۰ تایی و هفت بسته ی ۱۰ تایی مداد داشت او ۵۷ مداد را به برادرش داد چند مداد برایش باقی مانده است؟

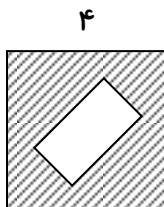
۶- دوندۀ ای روز اول ۱۸۰۰ متر و در روز دوم ۲۲۰۰ متر دوید و روز سوم به اندازۀ ی مجموع روز اول و دوم دوید . او در این سه روز چند متر دویدۀ است ؟
حالا بنویس چند کیلومتر پیموده است ؟

۷- طول اتاق سارا ۳ متر و ۳۰ سانتی متر است ، طول اتاق چند سانتی متر است ؟

۸- مساحت شکل های زیر را به دست آور .



۹- در شکل زیر مساحت قسمت رنگ شده ، چند سانتی متر مربع است ؟



۱۱- محیط مثلث متساوی الساقین ۱۹ سانتی متر است . اگر اندازۀ ی یک ضلع آن ۵ سانتی متر باشد اندازۀ ی هر کدام از دو ساق این مثلث چند سانتی متر است ؟ (با رسم شکل نشان بده)

خبر	تأحدودی	بله	انتظارات آموزشی (خودارزیابی)