




## ریاضی

۱- این دو کسر  $\frac{2}{6} = \frac{4}{12}$  را روی شکل روبه رو نشان بده و بنویس به چه نتیجه ای رسیدی؟




نتیجه:

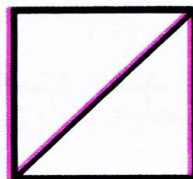
۲- با اضافه کردن یک خط به کدام شکل زیر می توان کسر  $\frac{1}{6}$  را نمایش داد؟




(۴)



(۳)






(۲)



(۱)

۳- درس و سارا دو پیتزای هم اندازه گرفتند. سارا  $\frac{2}{4}$  و درس  $\frac{3}{4}$  از پیتزا را خوردند کدام یک از آن ها کم تر پیتزا خورده است؟ (با رسم شکل نشان بده)

۴- با توجه به کسره های نوشته شده مستطیل ها را رنگ کن سپس در داخل دایره ها علامت ( $<$  یا  $>$ ) قرار بده.

 $\frac{2}{5}$  $\frac{2}{4}$  $\frac{1}{4}$  $\frac{3}{5} \bigcirc \frac{1}{3}$  $\frac{1}{3} \bigcirc \frac{2}{4}$ 

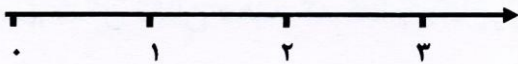
$$3 + 3 = 2 \times 3 = 6$$

۵- مانند نمونه جاهای خالی را پر کن.


$$6 + 6 + 6 + 6 + 6 = \dots = \dots$$

$$\dots = \dots = 15$$

۶- کسرهای داده شده را روی محور نشان بده .



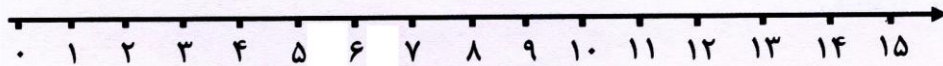
$\frac{4}{5}$  واحد بعد از عدد ۱



$\frac{2}{3}$  واحد قبل از عدد ۳

۷- ضرب مقابل را روی محور نشان بده .

$7 \times 2 = \dots\dots\dots$

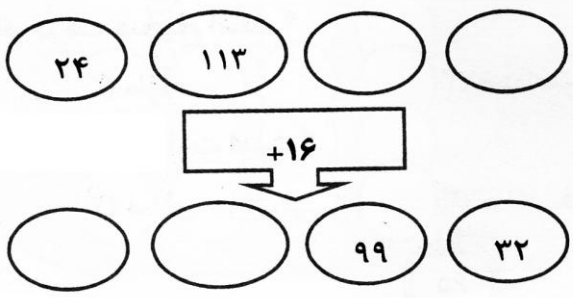


۸- مینا در یک شبانه روز ، ۵ نوبت نماز می خواند . او در یک هفته چند نوبت نماز می خواند ؟

۹- در یک کلاس ۸ نیمکت ۳ نفره وجود دارد . اگر تعداد دانش آموزان این کلاس ۲۱ نفر باشد ، چند نیمکت در این کلاس اضافه است ؟

۱۰- یک تخم مرغ در ۶ دقیقه می پزد . ۴۰ تخم مرغ در چند دقیقه می پزد ؟

۱۱- با توجه به کار ماشین ، در جاهای خالی عدد مناسب بنویس .



انتظارات آموزشی ( خودارزیابی )	بله	خیر	تأخردی