

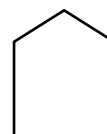
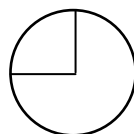

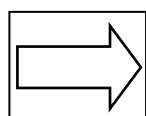


۱\_ الگوهای عددی زیر را ادامه بده.

..... - ..... - ..... - ۴۷۳ - ۴۸۳ - ۴۹۳

..... - ..... - ..... - ۱۰۰۰ - ۲۰۰۰ - ۳۰۰۰

۲\_ خط تقارن شکل های زیر را رسم کن .




۴\_ تمامی عدد های سه رقمی را بنویسید که رقم یکان آن ۲ یا ۴ ، رقم دهگان آن ۵ و رقم صدگانش ۳ و ۷ باشد. (به روش خوشه ای)

۵\_ دانش آموزان مدرسه ی فیروزه برای رفتن به مسافرت علمی در ده صف ده نفری ایستاده اند و در کنار آنها چهار دانش آموز دیگر ایستاده اند. با توجه به این که اولیای هر دانش آموز برای بدرقه ی آنها در کنار اتوبوس ایستاده باشند ، در این گردش علمی چند دانش آموز شرکت می کنند؟

۶\_ به چند حالت می توان با سکه های ۱۰ و ۵۰ ریالی سکه ی ۱۰۰ ریالی درست کرد؟ ( با رسم جدول )

نیمه ی دیگر شکل را طوری رنگ بزن که خط های زیر ، خط تقارن شکل باشد. سپس تعداد مربع های رنگ شده ی شکل را به کمک

تقارن بدست بیاور و بنویس.



۸) سعید ۲۴ مداد دارد. اگر مدادهایش را ۴ تا ۴ تا به همکلاسی هایش بدهد به چند نفر می تواند مداد بدهد؟

(د) ۸ نفر

(ج) ۶ نفر

(ب) ۷ نفر

(الف) ۵ نفر

۹) کدام یک از اجسام زیر به شکل مکعب مستطیل است؟

(د) کله ی قند

(ج) آجر

(ب) توپ

(الف) قوطی کنسرو

$$\triangle + 4 = 7$$

$$\square + \triangle = 9$$

۱۰) کدام عدد زیر، مربع پنهان شده است؟

(د) ۵

(ج) ۴

(ب) ۶

(الف) ۲

۱۱) اگر آخرین روز ماه مرداد پنجشنبه باشد، چه روزهایی دیگر در این ماه پنجشنبه است؟ (مرداد ۳۱ روز دارد)

(د) ۲۵، ۱۹، ۵، ۳۱

(ج) ۵، ۱۰، ۱۵، ۲۰

(ب) ۲۴، ۱۷، ۱۰، ۳

(الف) ۱۴، ۲۱، ۷، ۱

۱۲) مهدی می خواهد کتابی که ۱۸۰ صفحه دارد را بخواند. اگر او روزی ۲۰ صفحه از کتابش را بخواند، مطالعه ی کتاب مهدی چند روز طول می کشد؟

روز	۱					۶			
صفحه	۲۰					۱۲۰			

(ب) ۵ روز

(الف) ۶ روز

(د) ۹ روز

(ج) ۷ روز

۱۳) در شمارش ۴ تا ۴ تا، عدد قبل و بعد از ۱۶ چه اعدادی می باشد؟

(د) ۸، ۱۲

(ج) ۱۶، ۸

(ب) ۸، ۴

(الف) ۲۰، ۱۲



تأحدودی	خیر	بله	انتظارات آموزشی ( خودارزیابی )