


پایه ی اول
به نام خدای خوب



نام زیبای من:

تاریخ:

۱- جاهای خالی را با اعداد مناسب کامل کن.

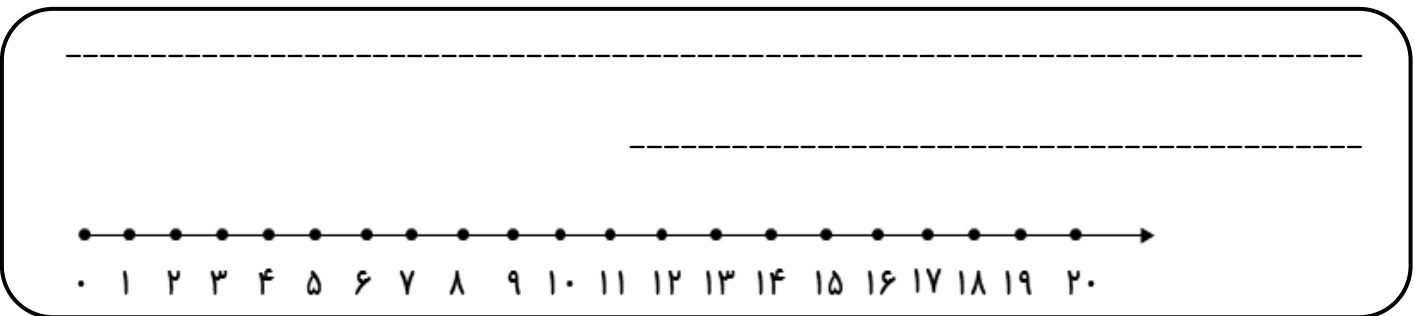
هیجده	هفتاد	چهل و نه	بیست و سه	هشتاد و پنج	شانزده	شصت و یک
-----	-----	-----	-----	-----	-----	-----

۶۴ - ۶۵ - -----

۱۷ - ۱۸ - -----

$۱۲ + ۳ + ۵ = \text{-----}$

۲- برای عبارت روبه رو یک مسئله بنویس و با کمک محور حل کن.



۳- جواب جمع ها و تفریق های زیر را به دست بیاور.

$۴۵ + ۵ = \text{-----}$

$۱۲ + ۳ = \text{-----}$

$۴۰ - ۱۰ = \text{-----}$

$۳۵ - ۵ = \text{-----}$

$۸۰ + ۱۰ = \text{-----}$

$۶۰ + ۴ = \text{-----}$

$۸ - ۱ = \text{-----}$

$۹۰ - ۳۰ = \text{-----}$

۴- ابتدا برای عددها چوب خط بکش و سپس جاهای خالی را کامل کن.

با عدد: -----


با حروف: -----

با عدد: -----

با حروف: -----

۵- در جدول زیر با مداد صورتی ۸ تا ۸ تا و با مداد آبی ۹ تا ۹ تا بشمار و رنگ بزن. عدد کدام خانه را دو بار زنگ زدی؟ آن را داخل بادکنک بنویس.

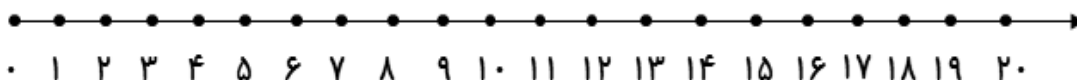
۱	۲	۳	۴	۵	۶	۷	۸	۹	۱۰
۱۱	۱۲	۱۳	۱۴	۱۵	۱۶	۱۷	۱۸	۱۹	۲۰
۲۱	۲۲	۲۳	۲۴	۲۵	۲۶	۲۷	۲۸	۲۹	۳۰
۳۱	۳۲	۳۳	۳۴	۳۵	۳۶	۳۷	۳۸	۳۹	۴۰
۴۱	۴۲	۴۳	۴۴	۴۵	۴۶	۴۷	۴۸	۴۹	۵۰
۵۱	۵۲	۵۳	۵۴	۵۵	۵۶	۵۷	۵۸	۵۹	۶۰
۶۱	۶۲	۶۳	۶۴	۶۵	۶۶	۶۷	۶۸	۶۹	۷۰
۷۱	۷۲	۷۳	۷۴	۷۵	۷۶	۷۷	۷۸	۷۹	۸۰



۶- جواب هر مسئله را با کمک محور به دست بیاور.

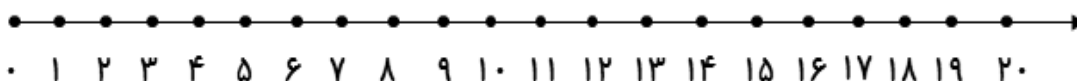
۱۷ سیب روی میز بود. پدر ۶ سیب را شست. برادر هم ۵ سیب را شست.

چند سیب نشسته روی میز باقی ماند؟



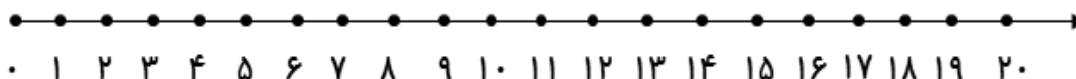
فاطمه ۸ کتاب داشت. او ۷ کتاب دیگر از نمایشگاه خرید. آموزگار هم ۵ کتاب به او جایزه داد.

حالا فاطمه چند کتاب دارد؟



باغبان ۸ درخت سیب، ۴ درخت گلابی و ۵ درخت آلبالو کاشته است. او در باغ خود چند درخت

کاشته است؟



باز خورد آموزگار



کتابخانه

