


پایه ی اول
به نام خدای خوب



نام زیبای من:


تاریخ:

۱- جاهای خالی را با اعداد مناسب کامل کن.

۱۱	۸۰	۶۹	۹۴	۸۷	۱۹	۵۵
-----	-----	-----	-----	-----	-----	-----

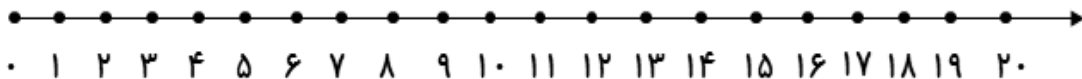
۳۴ - ۳۶ - ۳۸ -----

۲۷ - ۳۷ - ۴۷ -----



۲- با توجه به شکل روبه رو مسئله را کامل کن و با کمک محور حل کن.

علی ----- بادکنک در دست داشت. ----- بادکنک از دستش رها شد و به آسمان رفت. حالا ----- ؟



۳- جواب جمع ها و تفریق های زیر را به دست بیاور و علامت < = > بگذار.

۶۰ - ۲۰ ○ ۶۰ - ۱۰	۹۰ - ۳۰ ○ ۳۰ + ۴۰	۷۰ - ۵۰ ○ ۵۰ - ۳۰
۵۰ + ۲۰ ○ ۳۰ - ۲۰	۲۰ - ۵ ○ ۲۰ - ۱۰	۶۰ + ۲۰ ○ ۱۰ + ۸۰

۴- با توجه به اعداد جاهای خالی را کامل کن.

----- ده تایی و ----- یکی می شود

----- با حروف:



----- ده تایی و ----- یکی می شود

----- با حروف:



----- ده تایی و ----- یکی می شود

----- با حروف:



----- ده تایی و ----- یکی می شود

----- با حروف:



