


نام زیبای من: .....

تاریخ: .....

۱- عدد های زیر را ادامه بده.

۲۰ - ۲۵ - ۳۰



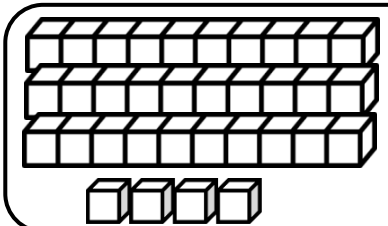
۱۶ - ۲۶ - ۳۶



۵۲ - ۵۳ - ۵۴

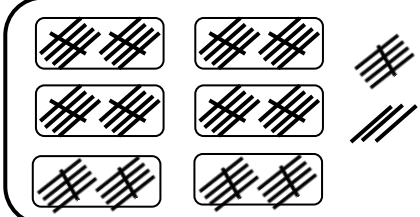
۷۴ - ۷۵ - ۷۶

۲- جاهای خالی را با به طور مناسب کامل کن.



--- ده تایی و ---  
یکی می شود ---

ده تایی	یکی	با عدد: -----
---	---	با حروف: -----



۶ ده تایی و ۸ یکی  
می شود -----

ده تایی	یکی	با عدد: -----
---	---	با حروف: -----

۳- جواب جمع و تفریق های زیر را به دست بیاور.

۲۰ + ۵ = ----

۱۰ + ۴۰ + ۵ = ----

۷۰ - ۴۰ = ----

۵۰ - ۵۰ = ----

۱۰ + ۱۰ + ۱۰ = ----


۸۰ - ۱۰ = ----

۱۰ + ۱۰ + ۱۰ + ۵ = ----

۹۰ - ۲۰ = ----

۱۰ + ۱۰ + ۱۰ + ۵ + ۵ + ۵ + ۵ = ----

۶۰ - ۵ = ----

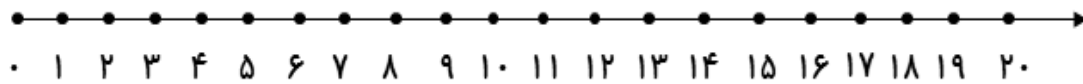


۴- برای هر مسئله شکل بکش و جواب آن را به دست بیاور.

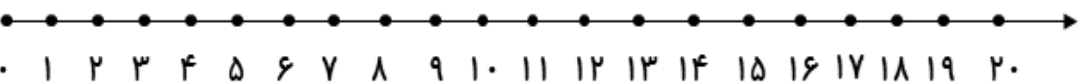
۵ بسته ی ده تایی بستنی در یخچال بود. ۷ بستنی دیگر در یخچال قرار دادیم. حالا چند بستنی در یخچال است؟

زاله ۴ بسته ی ده تایی مداد داشت. مادرش ۲ بسته ی ده تایی دیگر به او داد. حالا زاله چند مداد دارد؟

۵- جمع و تفریق های زیر را روی محور نشان بده، سپس جواب آن ها را بنویس.




$$5 + 5 + 5 = \text{-----}$$



$$15 - 9 = \text{-----}$$

۶- ابتدا مربع های شگفت انگیز را کامل کن. سپس جدول سمت چپ را طوری کامل کن که دو طرف آن مثل هم باشد.



۳	۶	۷	۲	۱	۵			
۲	۴	۵	۳	۱	۷	۶	۸	
۹	۷	۱	۶	۵	۸	۲	۴	۳
۷	۹	۲	۴	۶	۵	۳	۱	
		۶			۴			
۵	۳	۴	۹	۷	۸	۲	۶	
۶	۵	۷	۱	۲	۹	۳	۸	۴
۴	۲	۹	۸	۳	۱	۵	۷	
۱	۸		۵	۴		۹	۲	

باز خورد آموزگار



کتاب معلمیار

خود سنجی

