


پایه ی اول
به نام خدای خوب



نام زیبای من:

تاریخ:

۱- جاهای خالی را با اعداد مناسب کامل کن.

$$\begin{array}{r} 30 \\ + 5 \\ \hline \end{array}$$

$$\begin{array}{r} \text{شصت و پنج} \\ - \text{شصت} \\ \hline \end{array}$$

۷۷ - ۷۸


۲- حاصل جمع های زیر را بنویس و سپس با توجه به جواب جمع، جاهای خالی را کامل کن.

$10 + 5 + 5 + 5 = \text{---}$ با عدد: با حروف:	$20 + 10 + 5 + 5 = \text{---}$ با عدد: با حروف:	$10 + 30 + 5 + 5 = \text{---}$ با عدد: با حروف:
--	---	---

۳- جواب تفریق های زیر را به دست بیاور.

$35 - 5 = \text{---}$	$55 - 5 = \text{---}$	$40 - 20 = \text{---}$	$30 - 20 = \text{---}$
$25 - 5 = \text{---}$	$45 - 5 = \text{---}$	$20 - 10 = \text{---}$	$50 - 10 = \text{---}$

۴- جاهای خالی را با توجه به شکل کامل کن.



شمع شماره ۱ شمع شماره ۲ است.
 شمع شماره ۱ بلندترین شمع است.
 شمع شماره ۱ کوتاه ترین شمع است.

۵- در جدول زیر با مداد نارنجی ۵ تا ۵، با مداد سبز ۶ تا ۶ تا بشمار و رنگ بزن.
اعداد خانه هایی را که سبز شده اند، بنویس.

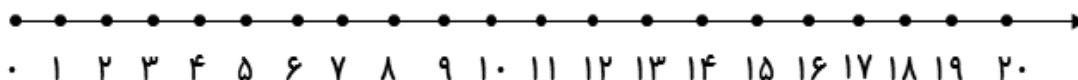


۱	۲	۳	۴	۵	۶	۷	۸	۹	۱۰
۱۱	۱۲	۱۳	۱۴	۱۵	۱۶	۱۷	۱۸	۱۹	۲۰
۲۱	۲۲	۲۳	۲۴	۲۵	۲۶	۲۷	۲۸	۲۹	۳۰
۳۱	۳۲	۳۳	۳۴	۳۵	۳۶	۳۷	۳۸	۳۹	۴۰
۴۱	۴۲	۴۳	۴۴	۴۵	۴۶	۴۷	۴۸	۴۹	۵۰

۶- جواب هر مسئله را با کمک شکل به دست بیاور و سپس روی محور نشان بده.

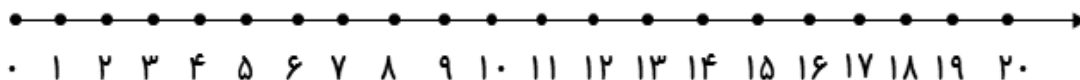
۱۵ فرشته در اتاق بودند. ۵ فرشته دیگر هم آمدند. ۷ تا از فرشته ها به آسمان رفتند.

حالا چند فرشته در اتاق هستند؟-----



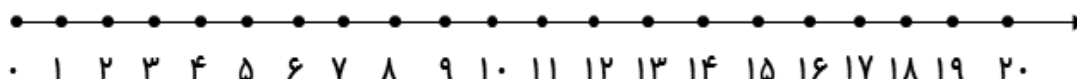
۱۶ شکلات در دکان بود. معصومه ۷ شکلات خرید. آذر هم ۵ شکلات خرید.

چند شکلات در دکان باقی ماند؟-----



۱۷ دوچرخه به مسابقه آمده بود. ۹ دوچرخه پنچرشد. حالا چند دوچرخه می تواند در مسابقه شرکت

کند؟-----



باز خورد آموزگار



کتابمیل

