

نام زیبای من: .....

تاریخ: .....


۱- باتوجہ به عدد داخل جدول چوب خط ہا را کامل کن.

ده تایی   یکی	ده تایی   یکی	ده تایی   یکی	ده تایی   یکی
۱   ۴	۱   ۹	۱   ۵	۱   ۷

۲- جواب جمع و تفریق های زیر را بنویس.

$6 + 1 =$	$8 + 2 =$	$2 + 7 =$	$8 - 2 =$	$5 - 4 =$	$8 - 3 =$
$5 + 5 =$	$3 + 5 =$	$4 + 6 =$	$4 - 4 =$	$5 - 1 =$	$5 - 0 =$
$3 + 3 =$	$4 + 4 =$	$2 + 2 =$	$2 - 1 =$	$7 - 6 =$	$9 - 6 =$
$1 + 7 =$	$4 + 3 =$	$4 + 2 =$	$9 - 5 =$	$10 - 6 =$	$4 - 0 =$
$6 + 0 =$	$9 + 1 =$	$6 + 2 =$	$6 - 3 =$	$6 - 4 =$	$9 - 1 =$

۳- اعداد ۹ تا ۲۰ را به ترتیب بنویس.




۴- جمع های زیر را روی شکل نشان بده. (از ۲ رنگ استفاده کن.)

$9 + 6 =$ ----	
$8 + 5 =$ ----	

۵- عدد های زیر را با چوب خط نشان بده.

۱۵	۱۶	۱۲	۱۹	۱۸	۱۳

۶- عددهای روی ساعت را بنویس.



۷- مانند نمونه حاصل جمع های زیر را با کمک ۲ رنگ چوب خط به دست بیاور. سپس آن را در جدول بگذار.

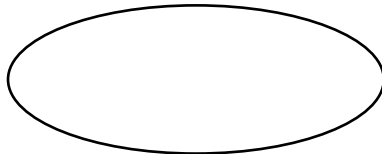
$۸ + ۶ = \text{----}$



ده تایی	یکی
۱	۴

۱۴


$۹ + ۷ = \text{----}$



ده تایی	یکی

----


$۷ + ۵ = \text{----}$



ده تایی	یکی

----

$۸ + ۸ = \text{----}$



ده تایی	یکی

----

باز خورد آموزگار



کنار معلم بیا

خود سنجی

