

تاریخ: .....

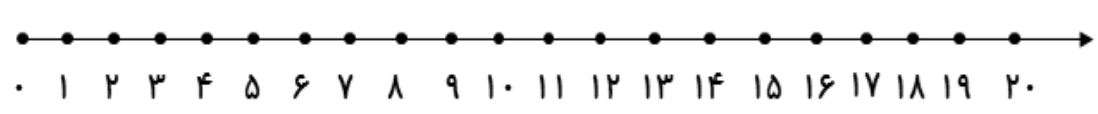
نام زیبای من: .....

۱- ابتدا با چوب خط حاصل جمع هر شکل را پیدا کن. سپس جمع مربوط به آن را بنویس.

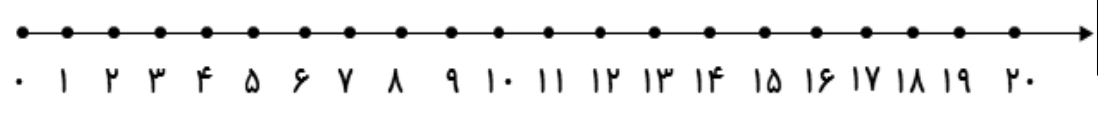
----- + ----- + ----- = -----			
----- + ----- + ----- = -----			
----- + ----- + ----- + ----- = -----			


----- + ----- + ----- = -----		

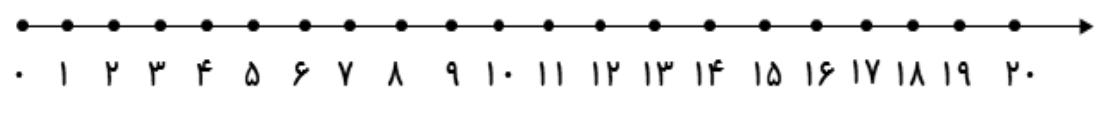
۲- جمع و تفریق های زیر را روی محور نشان بده، سپس جواب آن ها را بنویس.



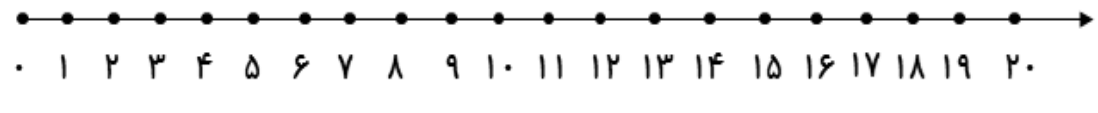
$9 + 7 = \text{-----}$



$3 + 7 + 5 = \text{-----}$




$10 - 7 = \text{-----}$



$9 - 3 = \text{-----}$

۳- حاصل جمع های زیر را با چوب خط حساب کن و بعد علامت کمتری و بیشتری یا مساوی بگذار.

$۲ + ۱ + ۴ =$



$۱ + ۳ + ۳ =$


$۴ + ۲ + ۲ =$

$۳ + ۳ + ۲ =$

$۰ + ۲ + ۳ =$


$۲ + ۰ + ۱ =$

$۳ + ۶ + ۱ =$



$۲ + ۳ + ۵ =$


۴- جمله ها را با نوشتن عدد مناسب کامل کن.



بلندی درخت بین ..... تا ..... است.

بلندی گل بین ..... تا ..... است.

بلندی هویج بین ..... تا ..... است.



۵- به نشانه های نقطه دار کلمات زیر دقت کن و برای هر کدام یک جمع بنویس.

گنجشک

نشستند

باز خورد آموزگار

خود سنجی



کتابخانه

