

نام زیبای من:
تاریخ:


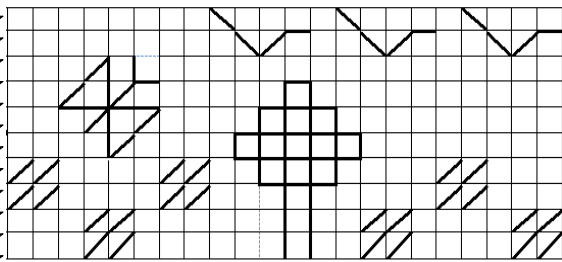
۱- شکل ها را به تعداد عدد داده شده کامل کن.

	۸
	۷
	۶

	۵
	۷
	۸

کتابخانه











۲- با خط کش شکل بالا را در قسمت پایین درخانه های شطرنجی بکش.













۳- عدد هر دسته را داخل دایره بنویس و آن هایی را که با هم مساوی هستند به هم وصل کن.

--	--	--	--


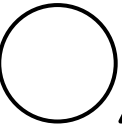
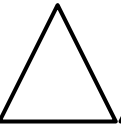
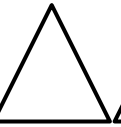
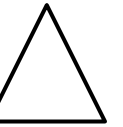






۴- عدد هر قسمت را زیر آن بنویس و اگر تعداد دو طرف با هم برابر است علامت = را رنگ بزن.

									
$=$	$=$	$=$	$=$	$=$	$=$	$=$	$=$	$=$	$=$

۵- از هر شکل چند تا هست؟ با چوب خط نشان بده و عدد مناسب آن را بنویس.

				
				
<input type="text"/>	<input type="text"/>	<input type="text"/>	<input type="text"/>	<input type="text"/>

۷- الگوی کشیده شده را با شابلون ادامه بده.

					<input type="text"/>
					

باز خورد آموزگار



کانال معلم‌یار

خود سنجی

