

پایه ی اول

به نام خدای خوب

دبستان

تکلیف ریاضی

تم ۹

نام زیبای من:

تاریخ:

کامل و عملی

۱- تعداد هر شکل چند تا است؟ ابتدا برای آن چوب خط بکش، سپس عدد آن را بنویس.

Three birds, three slanted lines, and the number 3.

Four oil lamps and two empty boxes.

Two whistles and two empty boxes.

One rotary telephone and two empty boxes.

Four flowers and two empty boxes.

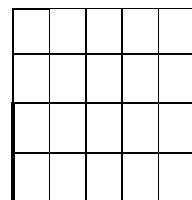
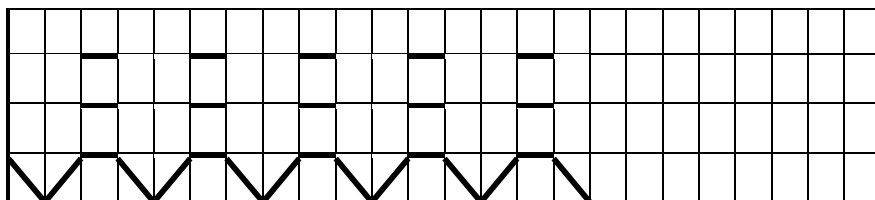
Five keys and two empty boxes.

۲- مربع های شگفت انگیز را کامل کن.

| | | | |
|---|---|---|---|
| ۵ | ۴ | ۲ | |
| ۲ | ۳ | | ۴ |
| ۴ | | | ۵ |
| | ۵ | ۴ | |

| | | | |
|---|---|---|---|
| ۲ | ۵ | | |
| | ۴ | ۵ | ۲ |
| ۴ | ۳ | | ۵ |
| ۵ | | ۴ | |

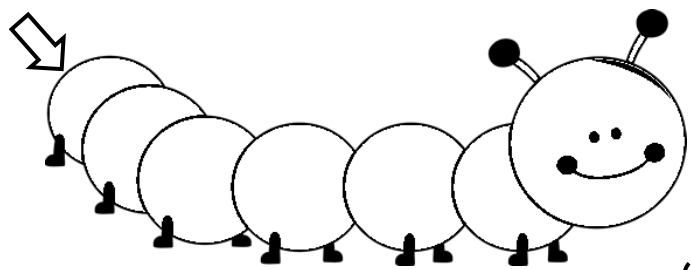
۳- ابتدا الگوی زیر را توضیح بده و بعد ادامه بده. سپس الگویی را که پیدا کرده ای در سمت راست بکش.



۴- برای هر عدد بالای آن چوب خط کشیده و در دایره شکل بکش و آن ها را رنگ بزن.

۵- در هر قسمت شکل ها روی هم چند تا می شود؟ در سمت چپ چوب خط و در سمت راست عدد آن را بنویس.

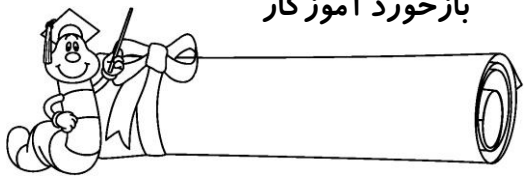
۶- از ۰ تا ۵ به ترتیب بنویس.



۷- با توجه به راهنما رنگ آمیزی کن.

۰- قرمز ۱- سبز ۲- زرد ۳- نارنجی ۴- بنفش ۵- آبی

باز خورد آموزگار



خود سنجی

