

پایه ی اول

به نام خدای خوب

دبستان




تکلیف ریاضی

تم ۲



نام زیبای من: .....

تاریخ: .....

۱- به تعداد شکل های سمت چپ از شکل های سمت راست رنگ بزن.











۲- جدول های شگفت انگیز را با شکل های داده شده کامل کن.






۳- الگوهای منظم زیر را ادامه بده.



۴- تعداد شکل های دسته ی سمت راست را با انگشتان دست راست و تعداد شکل های دسته ی سمت چپ را با انگشتان دست چپ خود نشان بده و به تعداد شکل ها داخل دایره ها مثلث بکش.



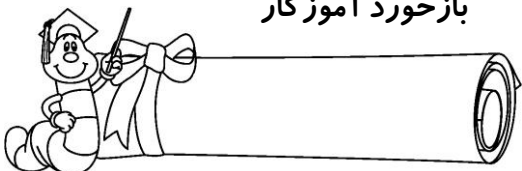
۵- اگر به انگشتان هر دست یکی اضافه شود چند می شود؟ (برای آن دایره بکش.)




۶- خانه هایی را که یک نقطه دارد، سبز و خانه هایی را که دو نقطه دارد، قرمز کن.

	••				••			••
•		•		•		•		•
	•				•			•

بازخورد آموزگار



خودسنجی



کتابخانه