

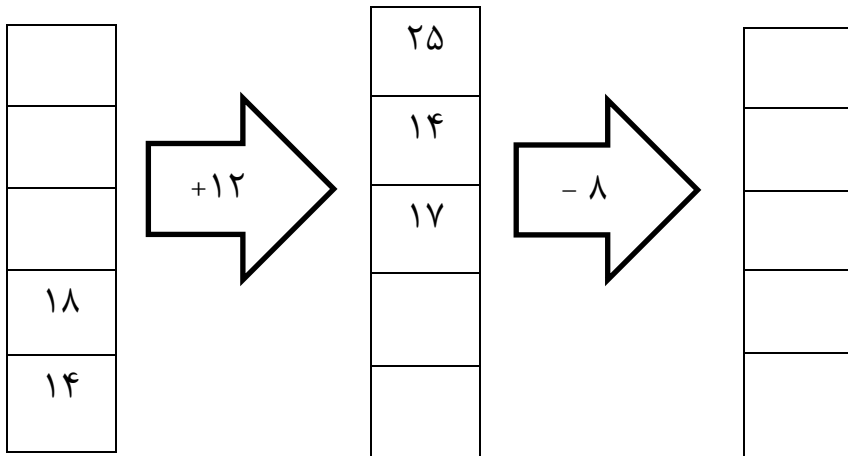


دانش آموزان عزیز سوالات را بخوانید و با دقت و تمیز پاسخ دهید. آزمون در ۳ برگ میپاشد.

۱ الگوهای عددی زیر را ادامه دهید.

۲ - ۴ - ۶ - ۸ - - - - -
 ۵ - ۱۰ - ۱۵ - ۲۰ - - - - -
 ۱۰۰ - ۲۰۰ - ۳۰۰ - ۴۰۰ - - - - -


۲ جاهای خالی را کامل کنید.



۳ هر کدام از ساعت های زیر چه ساعتی از بعد از ظهر و قبل از ظهر را نشان می دهند؟

| | | | | | | |
|-------|------|-------|-------|-------|------|------------|
| | ۷:۱۵ | | ۱۱:۰۰ | | ۶:۳۰ | قبل از ظهر |
| ۱۳:۲۰ | | ۲۱:۰۰ | | ۱۷:۴۵ | | بعد از ظهر |

۴ خط تقارن شکل های زیر را بکشید.



۵ یک عدد چهار رقمی بنویسید که رقم یکان آن ۷ و دهگان آن ۶ و صدگان آن ۵ و هزارگان آن ۹ باشد.

با عدد : باحروف :

باز شده ی عدد های زیر را بنویسید.

۶

۳۷۰۵ =

۲۳۰۰ =

۷۰۵۳ =

۴۲۰۸ =

عدد ها را باهم مقایسه کنید. $\leq = \geq$

۷

۳۲۴۰ ۶۵۵۰

۴۵۳۰ ۴۵۰۳

$\frac{1}{2}$ $\frac{1}{4}$

$\frac{4}{5}$ $\frac{3}{5}$

جاهای خالی را پر کنید.

۸

۵ کیلوگرم می شود گرم است.

۴۰۰ سانتی متر متر است.

۲۳۰۰ کیلو متر می شود کیلومتر و متر است.

۳ متر سانتی متر است.

۳۴۵۰ متر می شود کیلومتر و متر است.

۲ متر و ۵۰ سانتی متر سانتی متر است.

۶۵۰ تومان برابر ریال است.

۲۳۰۰ ریال برابر تومان است.

کسر مربوط به هر شکل را بنویسید.

۹



.....

.....

.....

.....

۱۰ یک زمین کشاورزی به شکل مستطیل شکل است کشاورزی این زمین را به ۲ قسمت مساوی تقسیم کرد. در یک قسمت خیار کاشته و قسمت دوم را به ۴ قسمت مساوی تقسیم کرد در ۲ قسمت گوجه فرنگی در یک قسمت بادمجان و یک قسمت را بدون کشت گذاشته است.

به سوالات زیر پاسخ دهید.

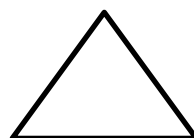

الف) چند قسمت خیار کاشته است؟


ب) چند قسمت گوجه فرنگی کاشته است؟

ج) چند قسمت بادمجان کاشته است؟

د) چند قسمت را بدون کشت گذاشته است؟

۱۱ در شکل های زیر زاویه ها را نشان دهید.



| | |
|--|---|
| <p>۱۲ عددی را با ۱۰۰۰ جمع کردیم ، حاصل ۱۱۰۰ شد. این عدد را به دست آورید.</p> | <p>۱۲</p> |
| <p>۱۳ برای هر ضرب یک جمع بنویسید و حاصل آن را پیدا کنید.</p> <p>$3 \times 4 = \dots + \dots + \dots = \dots$</p> <p>$4 \times 6 = \dots + \dots + \dots + \dots = \dots$</p> | <p>۱۳</p> <p>$3 + 3 + 3 + 3 = \dots \times \dots = \dots$</p> <p>$5 + 5 + 5 + 5 + 5 = \dots \times \dots = \dots$</p> |
| <p>۱۴ حاصل ضرب های زیر را با روش خواسته شده به دست آورید.</p> | |
| <p>بامحور</p> <p>$3 \times 3 =$</p>  | <p>با رسم شکل</p> <p>$6 \times 3 =$</p> |

موفق و سربلند باشید

باز خورد آموزگار:

| نیاز به تلاش بیشتر | قابل قبول | خوب | خیلی خوب |
|--------------------|-----------|-----|----------|
| | | | |