

نام و نام خانوادگی:

آزمون ریاضی سوم ابتدایی

تاریخ: ۱۳۹۵/۰۹/۲۴

فصل سوم: عددهای کسری

کنار معلم بیا

آموزگار: فاضلی پور

۱- هر شکل را به دو قسمت مساوی تقسیم کنید.



۲- هر شکل را به ۴ قسمت مساوی تقسیم کنید.



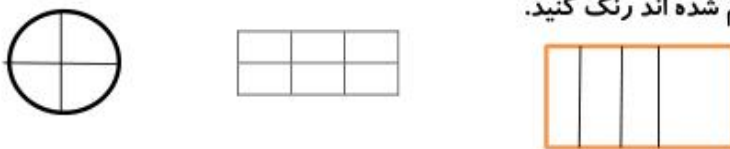
۳- هر شکل را به ۳ قسمت مساوی تقسیم کنید.



۴- شکل هایی را که به سه قسمت مساوی تقسیم شده اند را رنگ بزنید.



۴- شکل هایی را که به چهار قسمت مساوی تقسیم شده اند رنگ کنید.




۵- شکل هایی را که به ۶ قسمت مساوی تقسیم شده اند رنگ کنید.







۶- شکل های را که به ۸ قسمت مساوی تقسیم شده اند رنگ کنید.



۷- کسر مربوط به قسمت رنگی را بنویسید.



۸- در هر قسمت با توجه به کسر ، از شکل ها رنگ کنید.

	$\frac{2}{8}$		۳ قسمت از ۸ قسمت مساوی
	$\frac{4}{8}$		$\frac{2}{6}$

۹- کسر مربوط به هر قسمت رنگی را بنویسید.



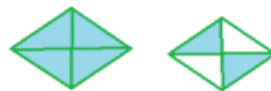
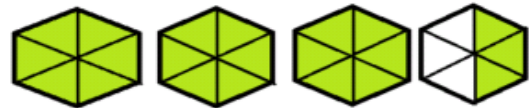
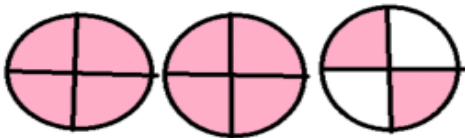
۱۰- یک زمین کشاورزی به شکل مستطیل است کشاورزی این زمین را به دو قسمت مساوی تقسیم کرد. در یک قسمت برنج کاشته و قسمت دیگر را به سه قسمت مساوی تقسیم کرد در یک قسمت چای و در یک قسمت دیگر پنبه کاشته است، به سوالات زیر پاسخ دهید.

۱- چند قسمت برنج کاشته است؟


۲- چند قسمت پنبه کاشته است؟

۳- چند قسمت چای کاشته است؟

۱۱- کسر را روی هر شکل نشان دهید.



باز خورد معلم!



بزار بالا رو ببینم همه

رو محل کردی؟؟!!

کتاب معلم یار