

کتابمعلمیار



1- فرزندم با توجه به ساعت مقابل به سوالات پاسخ بده.

یک ساعت ، چند تا نیم ساعت است؟

نیم ساعت چند دقیقه است ؟

دو تا نیم ساعت ، چند دقیقه می شود؟

دو تا نیم ساعت با 15 دقیقه ، چند دقیقه می شود؟

یک ساعت ، چند تا ربع است؟

یک ربع ، چند دقیقه است؟


دو تا یک ربع ، چند دقیقه است؟

یک ساعت و ربع چند دقیقه است؟

2- علامت مناسب بگذار. < = >

نیم ساعت () دو تا 15 دقیقه * نیم ساعت () 25 دقیقه * سه تا ربع () 45 دقیقه

3- با رسم 2 خط ، شکل هایی را که می توان به 4 قسمت مثل هم تقسیم کن و رنگ کن.



4- اتوبوسی ساعت 8 و نیم به سمت تهران حرکت می کند . این اتوبوس بعد از 3 ساعت و ربع به تهران می رسد . اتوبوس در چه ساعتی به

تهران می رسد؟ (با رسم ساعت)

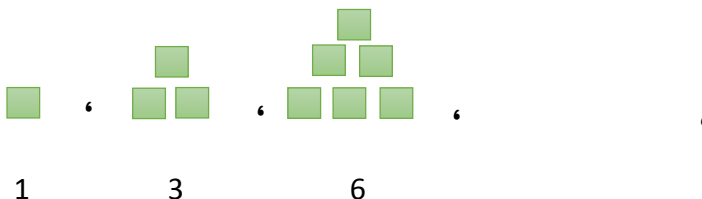
5- الگوها را ادامه بده .



19-21-26 - 28 -33 - - - -
 ↘ ↗ ↘ ↗ ↘ ↗
 +2 +5

31-33-36- - - -

6- با توجه به الگو جای خالی را کامل کن.



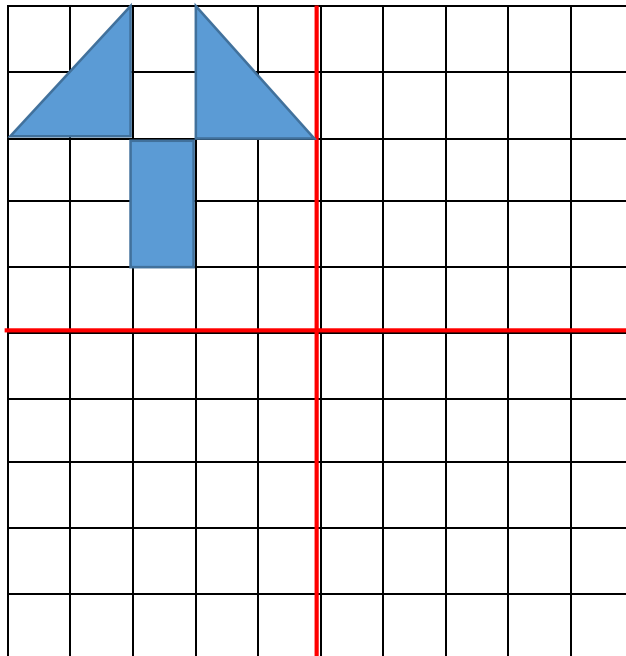
* فرزندانم در کامل کردن تقارن 4 قسمتی نکات زیر را رعایت کن:

1- گوشه های اشکال هندسی را با نقطه مشخص کن.

2- نقطه هارا نسب به خط تقارن عمود و افق بشمار و در هر طرف مشخص کن .

3- در مرحله آخر نقطه ها را در هر طرف به هم وصل کن.

7- با توجه به خط تقارن کامل کن.



دانش آموز زرنگم تقارن 4 قسمتی اشکال هندسی را روی طلق شفاف تمرین کن.

شعار همیشگی * من می توانم *



کامل معلم یار