

نام و نام خانوادگی:

پایه: سوم

تکلیف سایت



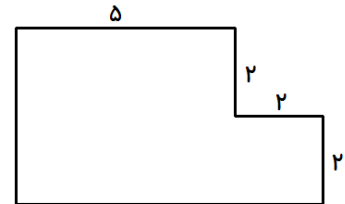
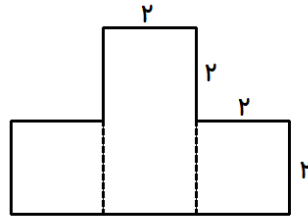
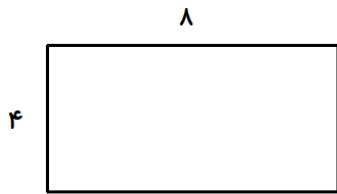
پایان بهمن

کلاس:

ریاضی

کتاب معلمیار

۱- محیط شکل های زیر را حساب کن.



۲- برای جمع و تفریق زیر شکل بکش و حاصل آن را به صورت تکنیکی به دست آور.

$$\begin{array}{r} 1435 \\ + 2273 \\ \hline \end{array}$$

$$\begin{array}{r} 5934 \\ - 3715 \\ \hline \end{array}$$

۳- فرید سه اسکناس دوهزار تومانی، دو اسکناس هزار تومانی و چهار اسکناس دویست تومانی دارد.

فرید چند تومان دارد؟

۴- کوچکترین و بزرگترین عدد چهار رقمی غیر تکراری را بنویس.

۵- در جاهای خالی عدد مناسب قرار بده.

$$(64 \div 8) \times (32 \div 8) = \square \times \square = \square$$

$$(15 - 7) \times (27 \div 3) = \square \times \square = \square$$

ارزشیابی

بله	خیر	تا حدودی
-----	-----	----------

			محیط را آموخته است.
			حاصل جمع و تفریق را با شکل به دست آورده است.
			در درک مسئله و حل آن تواناست.
			کوچکترین و بزرگترین عدد ۴ رقمی غیر تکرار را می شناسد.
			محاسبات ریاضی را به درستی انجام داده است.