

نام و نام خانوادگی:

پایه: سوم

تکلیف سایت دی






مورخه: / / ۹۵

کلاس:

ریاضی

کنار معلم یار

۱- برای هر شکل، یک ضرب بنویس.




..... × ..... =



..... × ..... =

۲- شکل را به سه صورت دسته بندی کن و برای هر دسته بندی یک ضرب بنویس.

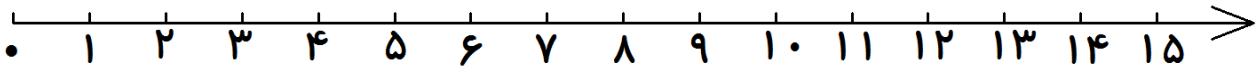


\_\_\_ × \_\_\_ = \_\_\_

\_\_\_ × \_\_\_ = \_\_\_

\_\_\_ × \_\_\_ = \_\_\_

۳- تساوی ضرب را روی محور نشان بده و حاصل را بنویس.



$$3 \times 5 = 5 \times 3 = \square$$

۴- بهرام روزی ۵ صفحه کتاب داستان می خواند. او در یک هفته چند صفحه کتاب داستان خوانده است؟

×	۲	۳	۴	۵	۶
۴					
۸					

۵- جدول را کامل کن.

ارزشیابی	بله	خیر	تا حدودی
برای شکل، ضرب نوشته است.			
شکل را به روش های مختلف دسته بندی کرده است.			
برای هر دسته بندی یک ضرب نوشته است.			
تساوی ضرب را روی محور نشان داده است.			
مسأله را حل کرده است.			
جدول را کامل کرده است.			