

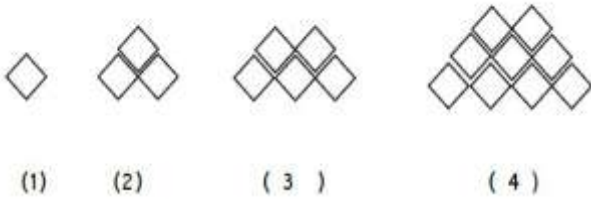
<p>۵- دو عدد زوج بین ۴۰ و ۵۰ بنویسید که مضرب ۲ و ۳ باشند.</p>	<p>۱- عددهایی که مضرب ۳ هستند مجموع رقم هایشان بر عدد بخش پذیر است. و عددهایی بر ۵ بخش پذیر هستند که</p>
<p>۶- ده مضرب عدد ۶ را به ترتیب بنویسید. بین مضرب ها چه رابطه ای برقرار است؟ بیستمین مضرب ۶ کدام عدد است؟ عدد ۱۲۶ چندمین مضرب ۶ است؟</p>	<p>۲- ۱۰- مضرب ۲، ۳ و ۴ را به ترتیب بنویسید. کدام مضرب ها بین هر سه مشترک هستند.</p>
<p>۷- ده مضرب عدد ۹ را به ترتیب بنویسید. بین مضرب ها چه رابطه ای برقرار است؟ بیستمین مضرب ۹ کدام عدد است؟ عدد ۹۹ چندمین مضرب ۹ است؟</p>	<p>۳- عدد دو رقمی زوج و مضرب ۵ پیدا کنید که اختلاف یکان از دهگان ۲ باشد.</p>
<p>۸- در هر الگو عدد بعدی را پیدا کنید.</p> <p>۳ ۷ ۱۱ ----</p> <p>۱۰ ۱۱ ۱۳ ۱۷ ----</p> <p>۱ ۴ ۲۰ ۱۲۰ ۸۴۰ ----</p> <p>۳ ۵ ۱۴ ۵۵ ----</p>	<p>۴- با توجه به الگوی مضرب اعداد ۳</p> <p>الف- صدمین مضرب ۳ چه عددی است؟</p> <p>ب- با توجه به الگو عدد ۶۹ چندمین مضرب ۳ است.</p>



۹ جاهای خالی را کامل کنید

- جمع عدد زوج با زوج ، عددی است .
- جمع عدد فرد با زوج ، عددی است .
- جمع عدد فرد با فرد ، عددی است .
- جمع شش عدد فرد ، عددی است .
- جمع پنج عدد فرد ، عددی است .

۱۳- در الگوی زیر شکل پنجم از چند لوزی درست شده است ؟ الگو را بنویسید

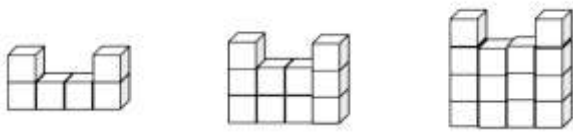


(1) (2) (3) (4)

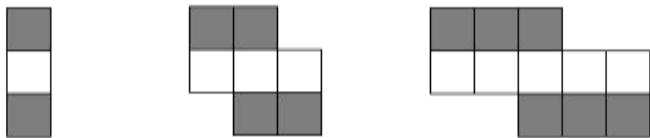
۱۰- جاهای خالی را کامل کنید

- تفریق عدد زوج با زوج ، عددی است .
- تفریق عدد فرد با زوج ، عددی است .
- تفریق عدد فرد با فرد ، عددی است .
- ضرب عدد فرد با فرد ، عددی است .
- ضرب عدد فرد با زوج ، عددی است .

۱۴- در الگوی زیر شکل چهارم از چند مکعب درست شده است ؟ الگو را بنویسید



۱۵- در الگوی زیر ، شکل دوازدهم چند مربع سفید و رنگی دارد؟



۱۱- الگوی مثلثی و مربعی را با مثال توضیح دهید.

۱۶- هر یک از اعداد زیر مضرب چه عددهایی میتواند باشد؟

۱۲- در الگوهای زیر ابتدا الگو را بیابید و سپس

عدد بیستم را بنویسید .

۲۰

۳۰

۴۸

۶۶

۲ - ۶ - ۱۲ - ۲۰ - ۳۰

۳ - ۵ - ۷ - ۹ - ۱۱

۰ - ۳ - ۸ - ۱۵ - ۲۴ - ۳۵