

انسان

اسلام

ایران

تلاش هفته (۱۰)



نام و نام خانوادگی :

پایه سوم

کتاب معلم یار

خلیج همیشه فارس



توضیحات	*	**	**	**	ارزیابی معلم
			*	**	تحويل به موقع
					دقت در صحیح نویسی
					رعایت پاکیزگی
					زیبا نویسی

توضیحات	*	**	**	**	ارزیابی دانش آموز
			*	**	به تنهایی انجام دادن تکلیف
					جمع آوری وسایل بعد از اتمام کار
					انجام در زمان مناسب
					به کارگیری سلیقه و خلاقیت
					پاسخ دادن به طور کامل

" فارسی "

۱. با هر دو شکل کلمه ی "شکر" جمله بنویس .

الف : شکر

ب: شکر

۲. جمله های زیر را طوری کامل کنید که زمان حال را نشان دهد .

الف) من مشکل خود را حل

ب) دوبلدرچین با جوجه های خود در کشتزار زندگی

ج) ما با هم کشتزار را درو

۳. زمان جمله ی زیر را به زمان حال بنویس .

زهرا و مریم دیروز به کتابخانه رفتند .

.....

" اجتماعی "

۱- هنگام رشد چه تغییراتی در بدن ایجاد می شود ؟

۲- خط زمان چیست ؟ یک مثال بزنید .

۳- چرا باید در کارها با یکدیگر همکاری داشته باشیم ؟

" هدیه آسمانی "

۱- امام جعفر صادق (ع) امام ما و فرزند امام (ع) است .

۲- امام جعفر صادق (ع) مانند پدرش همه ی مردم را به تشویق

می کرد و خود زیادی را تربیت کرد .

۳- وقتی می خواهیم با خدا گفت و گو کنیم باید و باشیم .

۴- پیش از خواندن نماز بهتر است پاک و آراسته باشیم زیرا خداوند را

دوست دارد.

۵- هر روز باید نوبت نماز واجب بخوانیم .

۶- خداوند در قرآن را به روشنی بیان کرده است .

"فارسی"

۴. کلمات هم معنی را با کشیدن خطی به هم وصل کنید (دو کلمه اضافه است).

کشاورز	آشیانه
لانه ی حیوانات	برزگر
شکيبايي	درو
نزدیکان	خویشان
همسایگان	

۵. جاهای خالی را با کلمه های مناسب پر کن .

جوجه ها در کشتزاری زندگی

..... در کشتزاری زندگی می کردی

..... در کشتزاری زندگی می کرد .

۶. کلمه های زیر را بانشانه ی مناسب کامل کن .

انت.....ار ← ظ
ض ←

کشت.....ار ← ز
ز ←

ضب..... صوت ← ط
ت ←

ت.....میم ← س
ص ←

"علوم"

۱- با توجه به شکل پاسخ دهید .



الف) آیا شوری آب ظرف شماره ۱ قابل دیدن است ؟

ب) از کجا می فهمید که آب دریا شور است ؟

ج) در مرحله ی (۱) چه اتفاقی می افتد ؟

د) در مرحله ی (۲) چه اتفاقی می افتد ؟

ه) در مرحله ی پایانی، آیا آب داخل ظرف شور است ؟

و) نمک را در کدام ظرف می توان دید ؟

" ریاضی "

-ادامه سوال ۳:

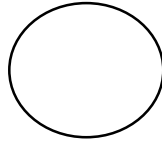
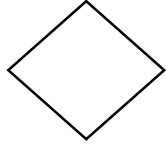
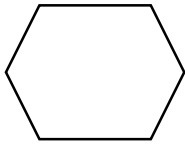
چند قسمت از شکل رنگ شده است؟

..... قسمت از قسمت مساوی یعنی.....

چند قسمت از شکل رنگ نشده است؟

..... قسمت از قسمت مساوی یعنی.....

۴- با رنگ کردن شکل های زیر ، کسر مورد نظر را نشان بده.



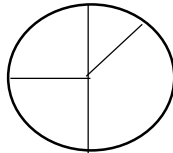

$$\frac{1}{3}$$

$$\frac{2}{4}$$

$$\frac{1}{3}$$

$$\frac{4}{8}$$

۵- مقدار رنگ نشده ی هر شکل را روی محور نشان بده .



" ریاضی "

۱- زهرا یک شکلات ۱۴ تکه ای داشت. او نصف آن ها را به خواهرش داد. خواهر حسین هم نصف شکلات هایش را به دوستش داد. سهم دوست خواهر حسین چند تکه شکلات است.



۲- کیک تولد علیرضا به شکل مستطیل بود. ابتدا کیک را به سه قسمت مساوی ، سپس یکی از قسمت ها را به چهار قسمت مساوی دیگر تقسیم کردند. علیرضا با خانواده اش که روی هم چهار نفرند هر کدام یک قسمت کیک را خوردند.



الف) هر نفر چه مقدار از کیک را خورده است؟

ب) چه مقدار از کیک باقی مانده است؟

۳. سوال های زیر را با توجه به شکل پاسخ بده.

چند قسمت از شکل ، زرد رنگ شده است؟

..... قسمت از قسمت مساوی یعنی.....

چند قسمت از شکل، آبی رنگ شده است؟

..... قسمت از قسمت مساوی یعنی.....

چند قسمت از شکل، سبز رنگ شده است؟

..... قسمت از قسمت مساوی یعنی.....

