



## تلاش هفته (۳)

انسان

اسلام

ایران

نام و نام خانوادگی :

پایه سوم

شکر نعمت‌یار

شکر نعمتهای گذشته موجب می شود که خدای متعال نعمت های تازه ای به انسان لطف کند . امام حسین (ع)

sbas2h1177.blogfa.com



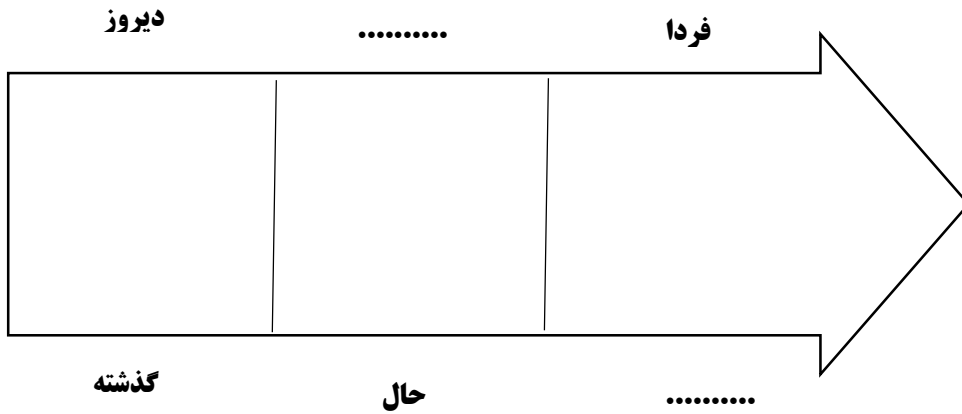
ارزیابی معلم	**	**	**	**	توضیحات
تحويل به موقع					
دقت در صحیح نویسی					
رعایت پاکیزگی					
زیبا نویسی					

ارزیابی ولی	**	**	**	**	توضیحات
دانش آموز	*	**	**	**	
به تنهایی انجام دادن تکلیف					
جمع آوری وسایل بعد از اتمام کار					
انجام در زمان مناسب					
به کارگیری سلیقه و خلاقیت					

## "اجتماعی"

۱. اگر همه ی انسان ها مثل هم بودند چه می شد؟

۲. یکی از کارهای خودتان را با توجه به خط زمان زیر بنویسید؟



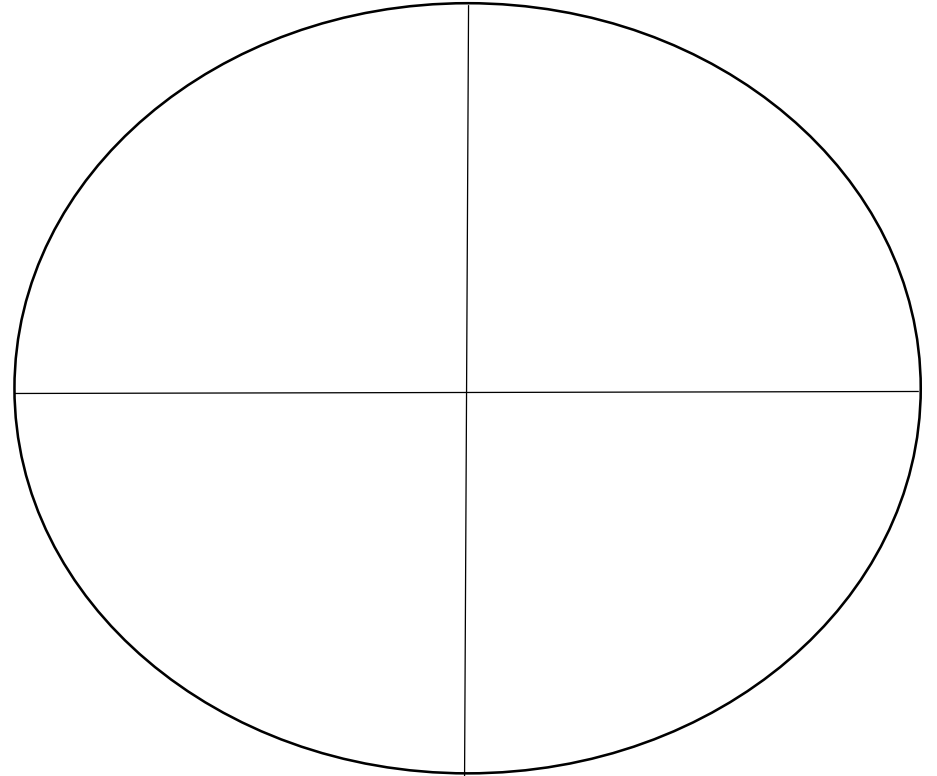
۳. خداوند در قرآن درباره مسخره کردن چه فرموده است؟

## "علوم"

۱. مهم ترین وعده ی غذایی کدام است؟ چرا؟


۲. سه غذا نام ببرید که همه ی گروه های مواد غذایی را داشته باشد؟

۳. دخترم می توانی خوراکی ها را طبقه بندی کنی و تصویر هر کدام را بکشی .



"فارسی"

۱. از بین کلمه های زیر، کلمه هایی را که درست جمع بسته شده اند داخل گلابرگ ها بنویس و آن را رنگ بزن .



۲- یک محله خوب و زیبا چه محله ای است؟ آن را نقاشی کن و یک جمله درباره اش بنویس.

"فارسی"

۳. با جایه جا کردن نقطه ، کلمه بساز. (مانند نمونه )

بار .....  
تار \_\_\_\_\_ ناز .....  
.....

۴. دخترم با دیدن این کلمات به یاد چه می افتی .

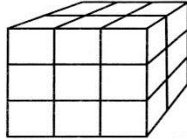
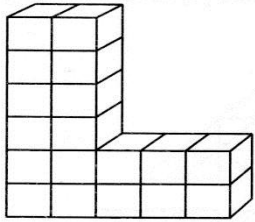
مدرسه .....  
خیابان ← .....  
محله ← .....

۵. کلمه های زیر را با دقت بخوان و کلمه های مخالف را جدا کن و کنار هم بنویس

سلامتی - روز - دوست - بهترین - خوب - استخر - بد - شنا - بیشتر - بیماری -  
شب - دشمن - تلاش - ماهر - تمرین - آموزش - کم تر

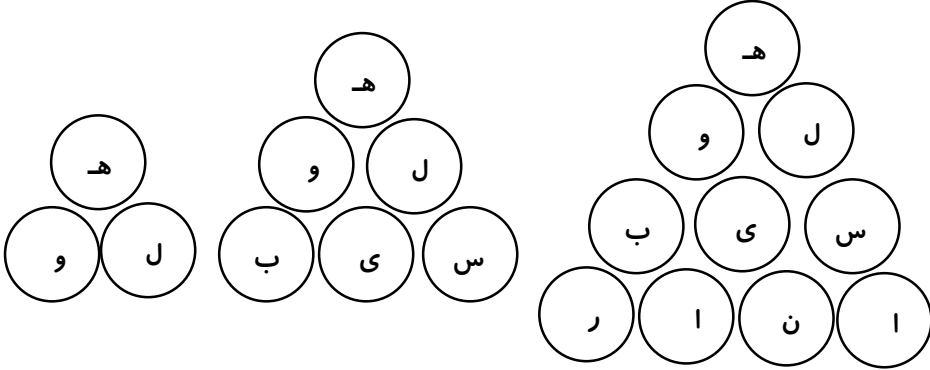
## " ریاضی "

۴. هر شکل از چند مکعب کوچک درست شده است؟



فارسی - ریاضی - علوم

۵. الگوی عددی را بنویسید و رابطه ی آن را روی فلش یادداشت کنید.



با استفاده از حروف الفبای داخل دایره ها ، کلمه مناسب مربوط به یک گروه از مواد غذایی را بنویسید .

این گروه از مواد غذایی چه خاصیتی برای بدن ما دارند؟

## " ریاضی "

۱. باتوجه به زمان های داده شده ، جاهای خالی را کامل کنید .

😊 ساعت ۱۶ یعنی ..... بعد از ظهر

😊 ساعت ۲۳ یعنی ..... بعد از ظهر

😊 ساعت ..... یعنی ۲ بعد از ظهر

😊 ساعت ..... یعنی ۵:۲۰ بعد از ظهر

۲. پدر محمد هر روز ساعت ۸ صبح به مغازه می رود و ساعت ۲ بعد از ظهر برمی گردد .

او چند ساعت در مغازه است ؟

۳. آقای دکتر برای زهرا شربت تجویز کرده که هر ۶ ساعت یکبار باید آن را بخورد اگر

زهرا ساعت ۶ صبح شروع به خوردن شربت کند . چه ساعت هایی باید شربت بخورد ؟

۶ صبح      .....      .....      .....