

انسان

اسلام

ایران

تلاش هفته (۵)

نام و نام خانوادگی :

پایه سوم

کتاب معلم یار



| ارزیابی معلم | ** | ** | ** | ** | توضیحات |
|--------------|----|----|----|----|-------------------|
| | | | * | ** | تحویل به موقع |
| | | | * | ** | دقت در صحیح نویسی |
| | | | * | ** | رعایت پاکیزگی |
| | | | * | ** | زیبا نویسی |

| ارزیابی دانش آموز | ** | ** | ** | ** | توضیحات |
|-------------------|----|----|----|----|---------------------------------|
| | | | * | ** | به تنهایی انجام دادن تکلیف |
| | | | * | ** | جمع آوری وسایل بعد از اتمام کار |
| | | | * | ** | انجام در زمان مناسب |
| | | | * | ** | به کارگیری سلیقه و خلاقیت |
| | | | * | ** | پاسخ دادن به طور کامل |



" اجتماعی "

۱. خانواده چگونه به وجود می آید ؟

۲. نام اعضای خانواده ی خود را بنویسید ؟

۳. شما دوست دارید در یک خانواده ی بزرگ زندگی کنید یا خانواده ی کوچک ؟ چرا؟


۴. به نظر شما چگونه تعداد اعضای خانواده بیشتر می شود ؟

۵. شما دلتان می خواهد در خانواده چه کسان دیگری باشما زندگی کنند ؟

" علوم "

۱. برای سالم ماندن غذاها باید آن ها را در شرایط مناسب نگه داری کرد . با توجه به روش نگه داری و مواد غذایی زیر ، جدول زیر را کامل کنید .

| ماده غذایی | روش نگهداری |
|------------|---------------|
| | ۱. خشک کردن |
| | ۲. شور کردن |
| | ۳. منجمد کردن |
| | ۴. کنسرو کردن |
| | ۵. دودی کردن |



۲. با استفاده از کلمه های مناسب جاهای خالی را کامل کنید .

الف) هوا یک ماده ی است که در همه جای ظرف پخش می شود .

(گاز - مایع)


ب) کپسول آتش نشانی از گاز پر شده است . (اکسیژن - کربن دی اکسید)

ج) ما نمی توانیم هوا را ببینیم . چون ندارد . (ماده - رنگ)

۳. سه مورد از کاربرد گازها را بنویسید ؟

"فارسی"

۱. برای دو تصویر زیر یک داستان بنویس .



.....

.....

.....

.....

.....

.....

۲. هنگام گردش در طبیعت چه کارهایی را باید انجام دهیم؟ (۴ مورد بنویس)

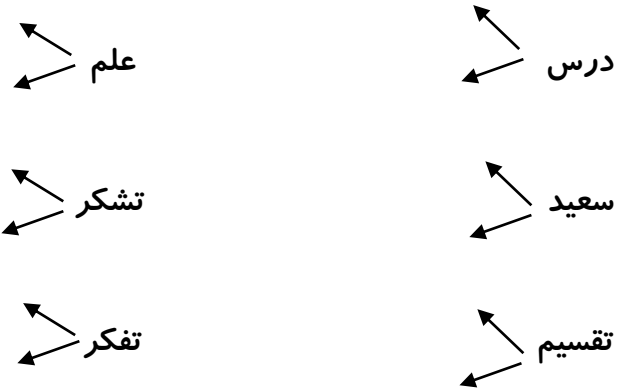
.....

.....

.....

"فارسی"

۳. هم خانواده کلمات زیر را بنویس .



۴. دخترم یک ضرب المثل بنویس و نقاشی آن را بکش .

" ریاضی "

۱. به پرسش های زیر پاسخ بده .

الف) کوچک ترین عدد سه رقمی کدام است ؟


ب) بزرگ ترین عدد سه رقمی کدام است ؟

ج) اختلاف کوچک ترین و بزرگترین عدد سه رقمی را حساب کنید ؟

۲. داخل کادرها را با دو عدد ، جمع هایی بنویس که حاصل جمع آن ۱۲ باشد .

| | | |
|----|---|--|
| ۱۲ | → | |
| | → | |
| | → | |
| | → | |
| | → | |
| | → | |
| | → | |
| | → | |

۳. چند تا از شکل های زیر خط تقارن دارند ؟



الف) ۵

ج) ۷

" ریاضی "

۴. با رقم های ۳ و ۴ و ۸ تمام عددهای سه رقمی غیر تکراری را بنویس .

۵. مریم با داشتن تعدادی سکه ی ۲۰ ریالی و ۱۰۰ ریالی به چند حالت می تواند ۳۰۰ ریال به دست آورد ؟

۶. آموزگار کلاس سوم می خواهد یک آزمون برگزار کند . او از دانش آموزان خواست که برای موفقیت بیش تر برنامه ی مطالعاتی تنظیم کنند . سوسن تصمیم گرفت روزی ۸ صفحه از هریک از کتاب های علوم ، فارسی و اجتماعی خود را مطالعه کند . او روی هم چند صفحه از کتاب های خود را در یک روز می خواند ؟