



آزمون جامع تابستانه پایه سوم دبستان غیر دولتی هوشمند آینده سازان برتر ۱



تابستان ۹۵

هدیه آسمان

۱- جمله ی «من کسی را دارم که همیشه و در همه جا با من است.» کدام ویژگی حضرت محمد(ص) را نشان می دهد؟

- (۱) با ادب بودن (۲) تمیز و مرتب بودن (۳) خداپرستی (۴) شجاعت

۲- کدام یک از کارهای زیر استفاده درست از نعمت های خدا را نشان می دهد؟

- (۱) آزار و اذیت پرندگان (۲) چیدن گل ها (۳) ریختن آشغال در خیابان (۴) کمک به افراد معلول و بزرگ ترها

۳- کدام یک از پیامبران زیر بت شکن بود؟

- (۱) حضرت ابراهیم (ع) (۲) حضرت عیسی (ع) (۳) حضرت موسی (ع) (۴) حضرت نوح (ع)

۴- تولد کدام بانوی قهرمان را روز پرستار نامیده اند؟

- (۱) حضرت زهرا (س) (۲) حضرت زینب (س) (۳) حضرت خدیجه (س) (۴) حضرت مریم (س)

۵- سومین امام ما شیعیان که در روز عاشورا به شهادت رسید نام دارد .

- (۱) امام حسین (ع) (۲) امام علی (ع) (۳) امام رضا(ع) (۴) امام صادق (ع)

فارسی خوانداری و نوشتاری

۶- مخالف کلمه ی غروب کدام گزینه است؟

- (۱) روز (۲) شب (۳) طلوع (۴) سحر

۷- شاعر در شعر « پدر بزرگ » گفته : در دست پیر او بود باز آن زیبا

- (۱) کتاب (۲) مداد (۳) عصای (۴) عینک

۸- به آخر کدام کلمه می شود « ای » اضافه کرد؟

- (۱) بهداشت (۲) دامنه (۳) کلاس (۴) صوت

۹- کدام کلمه از نظر املايي نادرست است ؟

(۱) ضبت صوت (۲) لحظه (۳) علاقه (۴) طراوت

۱۰- آلودگي صوتي ايجاد نمي كنم .

(۱) او (۲) من (۳) شما (۴) آن ها

۱۱- اولين گام براي نوشتن بند ، انتخاب يك است .

(۱) موضوع مناسب (۲) موضوع ساده (۳) بند (۴) تصوير

علوم تجربی

۱۲- اولين مرحله كار پژوهش گر براي حل مسائل علمي چيست ؟

(۱) جمع آوري اطلاعات (۲) تهيه گزارش (۳) طرح پرسش (۴) مرتب كردن اطلاعات

۱۳- شربت آبلیمو را در فریزر قرار می دهیم . بعد از گذشت چند ساعت شاهد یخ زدن آن خواهیم بود این عمل را چه می گویند؟

(۱) انجماد (۲) تبخیر (۳) ذوب (۴) مایع

۱۴- برای اندازه گیری مقدار مایعات از چه واحدی استفاده می شود ؟

(۱) کیلوگرم (۲) گرم (۳) لیتر (۴) متر

۱۵- ماده ای که در طبیعت به سه حالت دیده می شود ، چه نام دارد ؟

(۱) آب (۲) روغن (۳) شمع (۴) ژله

۱۶- چه عاملی باعث بخار شدن آب دریاها می شود ؟

(۱) سرمای هوا (۲) گرمای هوا (۳) نور خورشید (۴) گرمای خورشید

۱۷- کدام يك از کارهای زیر باعث صرفه جویی در مصرف آب می شود ؟

(۱) شستن حیاط (۲) شستن ماشین با شیلنگ آب (۳) چکه کردن شیرهای آب (۴) محکم بستن شیر آب

مطالعات اجتماعی

۱۸- کدام مورد در شناسنامه محل به دنیا آمدن را نشان می دهد ؟

(۱) محل صدور (۲) تاریخ تولد (۳) شماره ملی (۴) محل تولد

۱۹- اولین نهاد اجتماعی که فرزند در آن پا می‌گذارد، کجاست؟

- (۱) خانواده (۲) مدرسه (۳) کتاب خانه (۴) مسجد

۲۰- با ازدواج فرزندان و بچه دار شدن آن‌ها پدر و مادر صاحب چه می‌شوند؟

- (۱) نوه (۲) فرزند (۳) دختر (۴) پسر

۲۱- با ازدواج زن و مرد تشکیل می‌شود.

- (۱) تولد فرزندان (۲) خانواده (۳) خواهر (۴) مادر بزرگ

۲۲- خداوند در قرآن کریم به انسان‌ها فرموده است:

« به پدر و مادر خود نیکی کنید و چنان چه پیر شدند با نرمی و با آن‌ها سخن بگویید.»

- (۱) با تندى (۲) مهربانى (۳) دعوا (۴) خوبى

ریاضی

۲۳- به جای علامت سوال (?) کدام گزینه را می‌توان قرار داد؟

۰ ، ۱۷ ، ۱۴ ، ۲۱ ، ؟

- (۱) ۳۵ (۲) ۲۸ (۳) ۴۲ (۴) ۴۹

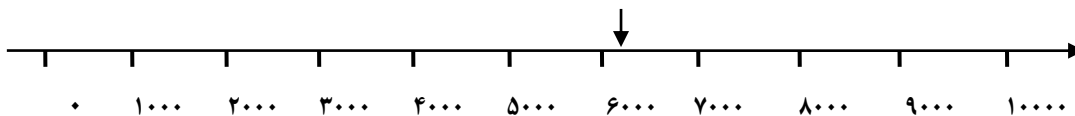
۲۴- عددی وارد ماشین ورودی - خروجی روبه رو شده و حاصل ۱۷ شده است، آن عدد چیست؟ ۱۷ → +۷ → □

- (۱) ۱۷ (۲) ۲۴ (۳) ۱۰ (۴) ۷

۲۵- یک عدد ۴ رقمی که رقم یکانش ۴، رقم دهگان‌ش ۵، رقم صدگان‌ش ۰ و رقم هزارگان‌ش ۷ کدام است؟

- (۱) ۸۰۵۴ (۲) ۷۵۰۴ (۳) ۴۵۰۷ (۴) ۷۰۵۴

۲۶- با توجه به محور عدد نشان داده شده جای تقریبی کدام عدد زیر است؟



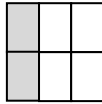
- (۱) ۴۷۸۱ (۲) ۷۰۹۹ (۳) ۶۰۹۹ (۴) ۵۰۹۹

۲۷- در یک شهرستان ۳۲۳۱ دانش آموز ابتدایی و ۲۰۴۵ دانش آموز متوسطه درس می‌خوانند با حذف رقم‌های یکان،

دهگان، صدگان بگویید این شهرستان به طور تقریبی چند دانش آموز دارد؟

- (۱) ۵۰۴۵ (۲) ۵۲۳۱ (۳) ۵۰۰۰ (۴) ۵۲۷۶

۲۸- شکل روبه رو چه کسری را نشان می دهد؟



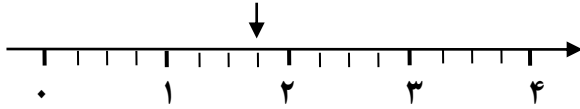
(۴) $\frac{2}{6}$

(۳) $\frac{6}{2}$

(۲) $\frac{2}{4}$

(۱) $\frac{1}{3}$

۲۹- عدد مشخص شده روی محور کدام گزینه را نشان می دهد؟



(۴) $\frac{1}{4}$ واحد مانده به عدد ۲

(۳) $\frac{2}{4}$ واحد مانده به ۲

(۲) ۱ واحد و $\frac{2}{4}$ واحد

(۱) ۱ واحد

۳۰- برای اندازه گیری جرم اجسام کوچک از چه واحدی استفاده می کنیم؟

(۴) کیلوگرم

(۳) گرم

(۲) لیتر

(۱) میلی متر

موفق باشید

کانال رسمی معلم یار
Telegram.me/MoallemYarir
به ما بپیوندید | Join To Telegram