

دبستان شهید مؤذنی

به نام خالق بی همتا

سال تحصیلی

آزمون مدادی کاغذی ریاضی اردیبهشت پایه ی سوم


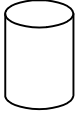


نام و نام خانوادگی :

هدف: شناخت اشکال هندسی، انجام صحیح تقسیم با باقی مانده، تشخیص زاویه راست، رسم صحیح نمودار دایره ای و ستونی

فرزندم! جملات صحیح را با «ص» و جملات غلط را با «غ» مشخص کن.

- احتمال این که بعد از پرتاب تاس عدد ۴ رو باشد $\frac{1}{4}$ است.
- اگر دو قطر یک دایره را رسم کنیم ۶ پاره خط درست می شود.
- به اندازه ی سطح هر شکل محیط می گویند.
- ۵ س و $\frac{7}{1}$ س همان ۵۷ میلی متر است.

۲- هر کسر ستون " الف " را به کسر مساوی خودش در ستون " ب " وصل کن .

" ب "	" الف "
	مربع
	مثلث
	استوانه
	مکعب

۳- در هر سوال گزینه ی صحیح را انتخاب کن .

❖ طول و عرض یک اتاق به ترتیب ۹ و ۸ متر است . می خواهیم آن را با موکتی به طول ۹ متر و عرض ۷ متر پوشانیم.

چند متر مربع از اتاق خالی می ماند ؟

الف) ۷۲ متر مربع ب) ۶۳ متر مربع ج) ۸ متر مربع د) ۹ متر مربع

❖ اگر مرا در ۵ ضرب کنی و بعد با ۸ جمع کنی عدد هشت می شوم . من چه عددی هستم ؟

الف) ۱ ب) ۱۰ ج) ۰ د) ۸

نیاز به تلاش	قابل قبول	خوب	خیلی خوب	
				اشکال هندسی را به درستی تشخیص می دهد
				تقسیم با باقی مانده را به درستی انجام می دهد.
				نمودار دایره ای و ستونی را به درستی رسم می کند.
				زاویه دراست را در اشکال هندسی به درستی تشخیص می دهد

❖ خود سنجی

- من یاد گرفته ام.....
 - اما یاد نگرفته ام.....
 - آنچه باید انجام دهم تا بهتر یاد بگیرم.....
 - من از درس یاد گرفتم.....
- ❖ بازخورد توصیفی آموزگار.....

از سخنان دکتر قره باغی

کار ، عمل و تجربه کردن کودک را به کمال می رساند.