

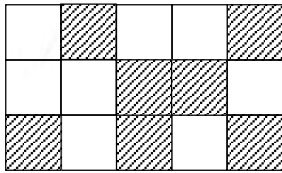


۱- دمای هوای یک شهر در ۴ روز مختلف، ۱۱ درجه و ۱۴ درجه، ۱۳ درجه و ۱۰ درجه است. نمودار خط شکسته‌ی

دمای هوای این شهر را رسم کنید.

۲- میانگین سه داده، برابر با ۳۵ است. میانگین چهار داده‌ی دیگر برابر با ۳۴ است. میانگین کل این داده‌ها برابر با چند است؟


۳- اگر مهره‌ای را روی صفحه‌ی زیر پرتاب کنیم، چقدر احتمال دارد که روی خانه‌ی رنگی قرار بگیرد؟



۴- میانگین کوچک‌ترین عدد دو رقمی، بزرگ‌ترین عدد سه رقمی، کوچک‌ترین عدد چهار رقمی و بزرگ‌ترین عدد پنج رقمی کدام است؟

سؤال امتیازی

* معدل سه عدد ۱۷ و یکی از آن‌ها ۲۳ است. اگر اختلاف دو عدد باقی‌مانده ۴ باشد، حاصل ضرب آن دو عدد کدام است؟



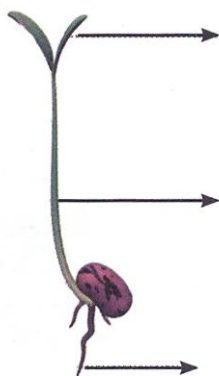
علوم

۱- اگر پشت و روی برگ را وازلین بمالیم، چه اتفاقی برای گیاه می افتد؟ چرا؟

۲- به چه روشی می توانیم گل سفید را تبدیل به گل رنگی کنیم؟

۳- وظیفه اصلی تارهای کشنده چیست؟

۴- قسمت های شکل زیر را نام ببرید.



۴- زمانی که آب و باد مقداری از خاک را با خود جابه جا می کنند اتفاق می افتد.

فارسی

۱- برای هر یک از نقش های دستوری زیر یک مثال زیبا بنویسید:

..... نهاد فاعلی: الف)

..... مفعول: ب)

..... فعل: ج)



۲- معنی کنایه‌های زیر را بنویسید:

الف) با خاک یکسان کردن:

ب) سایه افکندن:

ج) نقش بر زمین کردن:

۳- «همه چیز را همگان دانند» یعنی چه؟

.....

.....

۴- تصویر دو ضرب‌المثل از کتاب درسی تان را نقاشی کرده، سپس از والدین خود بخواهید آن را حدس بزنند:




 کانال رسمی معلم یار
 Telegram.me/MoallemYarir
 به ما بپیوندید | Join To Telegram