



آدینه پایه سوم هفته دوم اردیبهشت

نام و نام خانوادگی.....

۱- حاصل این ضرب ها به دست آورید.

$$4 \times 234 =$$

$$2 \times 321 =$$

$$50 \times 321 =$$

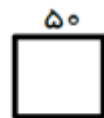

۲- در کتابخانه مدرسه ۳ کمد کتاب وجود دارد . کمد ۲ طبقه دارد و هر طبقه ۱۲ کتاب وجود دارد. در این کمد ها چند کتاب وجود دارد؟

.....

۳- پدر امیر مهدی برای رفتن به محل کار ۲ بار و هر بار ۱۲۲ تومان کرایه اتوبوس می دهد ، او در روز چند تومان کرایه می دهد ؟

.....

۴- محیط هر شکل را محاسبه کن



.

۵- قطاری ساعت ۷ صبح از اهواز حرکت کرده و پس از ۳ ساعت به ایستگاه درود رسید این قطار چه ساعتی به درود رسیده است ؟

۶- تمام عددهای ۳ رقمی که رقم صدگان آن، ۱ و رقم دهگان ۲ یا ۵ ، رقم یکان ۱ باشد را بنویسید.

.....

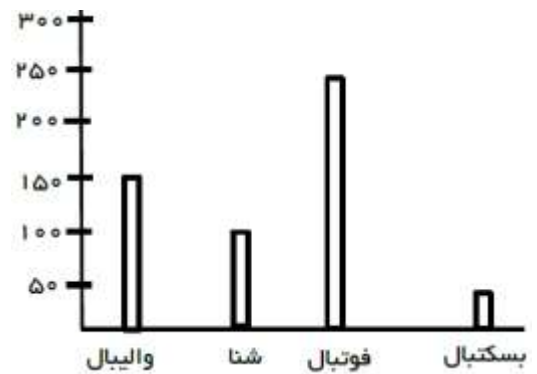


## آدینه پایه سوم هفته دوم اردیبهشت

۷-خمس شکل را خط بزن



۸.اطلاعات نمودار ستونی را در نمودار دایره ای نشان بده .



۹-مقایسه کنید.

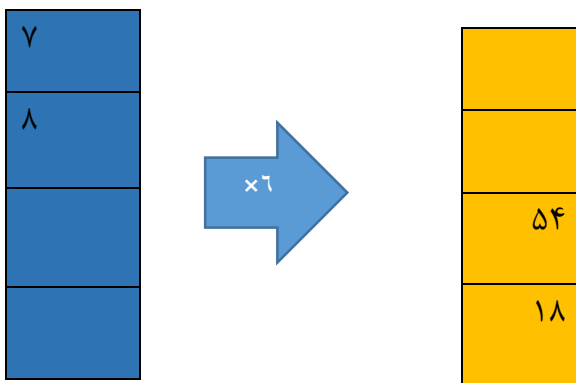
۲۰ تا صد متر  ۲۰۰۰ متر

ثلث  خمس

$\frac{1}{4}$  ربع

۲ واحد و  $\frac{۳}{۱۰}$  واحد  ۲ واحد و  $\frac{۷}{۱۰}$  واحد

۱۰--ماشین ورودی خروجی زیر را کامل کنید.



۱۱-آپارتمانی ۵ طبقه که در هر طبقه ۳ واحد و در هر واحد ۲ اتاق خواب وجود دارد. طبقه سوم چند واحد و چند اتاق خواب دارد؟



آدینه پایه سوم هفته دوم اردیبهشت

۱۲- ضرب های زیر را حساب کنید.

$$\begin{array}{r} 402 \\ \times 3 \\ \hline \end{array}$$

$$\begin{array}{r} 365 \\ \times 4 \\ \hline \end{array}$$

۱۳. عدد های زیر را روی محور نشان دهید.

۲۷، ۳۸، ۴۹، ۶۰، ۸۸

۱۴. عددی را با خودش ضرب کردیم با ۲۰ جمع کردیم جواب ۵۶ شد. آن عدد را پیدا کنید. ۰ عددها را حدس بزنید و بنویسید.

۱۵. عددی را دو برابر کردیم و با ۳۰ جمع کردیم جواب ۳۶ شد آن عدد را پیدا کنید.



کانال رسمی معلم یار  
Telegram.me/MoallemYarir

به ما بپیوندید | Join To Telegram