



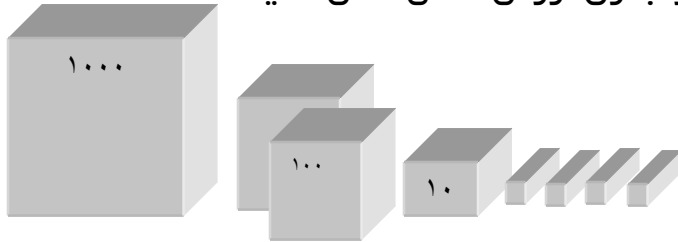
آزمون ریاضی پایه سوم ابتدایی

۱- در جاهای خالی عدد مناسب بنویسید.

..... یکی و ده تایی و صدتایی = ۹۷۸

۲- کتابخانه دبستان یادآور آن ۴۲۳ کتاب داشت. دانش آموزان این دبستان ۷۳ کتاب را به دبستان دیگری هدیه کردند. حالا این کتابخانه چند کتاب دارد؟

۳- با توجه به شکل مقدار هر کدام را در جدول ارزش مکانی نشان دهید.



هزارتایی	صدتایی	ده تایی	یکی

۴- حاصل جمع و تفریق های زیر را بنویسید.

$$+۸۵۶$$

$$-۱۵۶$$

$$+۹۸۷۴$$

$$-۱۷۵۷$$

$$+۴۳۰۸۷$$

$$\underline{۱۲۳}$$

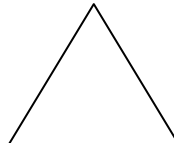
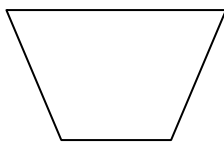
$$\underline{۴۵۸}$$

$$\underline{۳۱۴۳}$$

$$\underline{۲۲۲}$$

$$\underline{۴۳۲۴}$$

۵- هر یک از شکلهای زیر چند ضلع دارد؟



۶- حامد روزی ۵۹ صفحه کتاب می خواند در ۷ روز او چند صفحه کتاب خواهد خواند؟

۷- در جاهای خالی عدد مناسب بنویسید.

$8 \times 7 = \square$

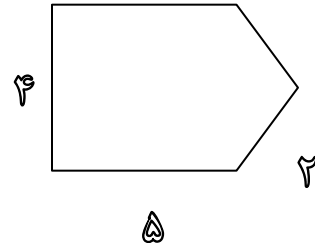
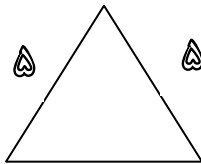
$9 \times 5 = \square$

$11 \times 4 = \square$

$7 \times 7 = \square$

۸- مادر علی خیاطی می کند. او به هر پیراهن ۵ دکمه می دوزد. ۳۰ دکمه را به چند پیراهن می تواند بدوزد؟

۹- محیط هر یک از شکل‌های زیر را حساب کنید.



۱۰- کلاسی ۳ ردیف میز و نیمکت دارد در هر ردیف ۴ میز و نیمکت چیده اند. اگر روی هر نیمکت ۳ دانش آموز بنشیند، این کلاس چند دانش آموز دارد؟

۱۱- تقسیم‌های زیر را انجام دهید.

$$\begin{array}{r} ۱۶ \quad ۲ \\ \hline \end{array}$$

$$\begin{array}{r} ۲۵۴ \quad ۴ \\ \hline \end{array}$$

$$\begin{array}{r} ۳۰ \quad ۵ \\ \hline \end{array}$$

$$\begin{array}{r} ۷۸ \quad ۴ \\ \hline \end{array}$$



کانال رسمی معلم یار
Telegram.me/MoallemYarir

به ما بپیوندید | Join To Telegram