

به نام خدا

پایه ی سوم

سازمان آموزش و پرورش استان

نام و نام خانوادگی :










وقت :

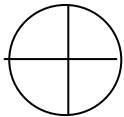

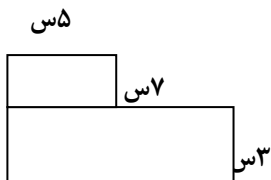
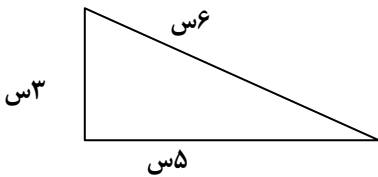
اداره ی آموزش و پرورش منطقه ای

نام پدر :

نوبت دوم



۱	<p>با عدد و با حروف بنویسید .</p> <div style="border: 1px solid black; padding: 5px; margin: 10px 0;"> <p>۴۵۰۳۹۶.....</p> <p>سیصد و چهل و نه هزار و سه</p> </div>	۱
۲	<p>در جاهای خالی عدد مناسب بنویسید.</p> <p>۸ کیلومتر برابر است با متر .</p> <p>۳ کیلوگرم برابر است با گرم</p> <p>عدد ۹۰۶۴ برابر است با یکی و ده تایی و صدتایی و هزار تایی</p> <p>۵ متر برابر است با میلیمتر</p> <p>۹ سانتی متر برابر است با میلیمتر</p>	۲
۱/۲۵	<p>علامت < = > بگذارید .</p> <div style="display: flex; justify-content: space-around; align-items: center;"> <div style="text-align: center;"> $\frac{1}{5} \bigcirc \frac{1}{6}$ $401 - 600 \bigcirc 201 - 500$ </div> <div style="text-align: center;"> $\frac{2}{6} \bigcirc \frac{3}{6}$ $78 + 610 \bigcirc 169 - 875$ </div> <div style="text-align: center;"> $4 \times 6 \bigcirc 5 \times 4$ </div> </div>	۳
۱	<p>با رقم های (۵ ، ۴ ، ۰ ، ۲) بزرگترین و کوچکترین عدد چهار رقمی بنویس .</p> <p>بزرگترین : </p> <p>کوچکترین : </p>	۴
۲/۲۵	<p>برای شکل رو به رو یک ضرب و دو تقسیم بنویسید .</p> <div style="display: flex; justify-content: space-around; align-items: center;"> <div style="text-align: center;">    <p>تقسیم :</p> </div> <div style="text-align: center;">    <p>تقسیم :</p> </div> <div style="text-align: center;">    <p>ضرب :</p> </div> </div>	۵
۲/۵	<p>عملیات زیر را انجام دهید .</p> <div style="display: flex; justify-content: space-between;"> <div style="text-align: center;"> 362 $\times 5$ <hr style="width: 50px; margin: 0 auto;"/> </div> <div style="text-align: center;"> $18 \div 6 = \dots\dots\dots$ $6 \times 8 = \dots\dots\dots$ $5 \times 9 = \dots\dots\dots$ </div> <div style="text-align: center;"> $9 \times 0 = \dots\dots\dots$ $7 \div 1 = \dots\dots\dots$ $17 \times 100 = \dots\dots\dots$ </div> <div style="text-align: center;"> $5 \div 5 = \dots\dots\dots$ $0 \div 3 = \dots\dots\dots$ </div> </div>	۶

۱	یک خط متقاطع و یک خط موازی رسم کنید .	۷						
۰/۵	 <p>چه کسری از شکل رنگی است .</p>	۸						
۰/۵	 <p>کدام یک از شکل های زیر خط تقارن ندارد .</p>	۹						
۱/۷۵	 <p>مساحت شکل رو به رو را بدست آورید .</p>	۱۰						
۱/۲۵	 <p>شکل زیر چند ضلعی است . محیط آن را بدست آورید .</p>	۱۱						
۱	زنگ مدرسه ایی ساعت ۵ بعد از ظهر می خورد . در چه ساعتی زنگ می خورد ؟	۱۲						
۱	برای خرید ۹ ورق کاغذ ۴۵ تومان پول داده ایم . کاغذ ورقی چند تومان بوده است .	۱۳						
۱	کلاسی ۳۲ نفر دانش آموز دارد . هر کدام ۳ جلد کتاب به کتابخانه هدیه کرده اند . این دانش آموزان چند جلد کتاب به مدرسه هدیه کرده اند ؟	۱۴						
۰/۵	ساعت رو به رو چه ساعتی را نشان می دهد ؟	۱۵						
۱/۵	<p>تقسیم های زیر را انجام دهید و خارج قسمت و باقیمانده را بنویسید .</p> <table style="width: 100%; border: none;"> <tr> <td style="text-align: center;"> $\begin{array}{r} 39 \\ \underline{7} \\ \hline \end{array}$ </td> <td style="text-align: center;"> $\begin{array}{r} 82 \\ \underline{9} \\ \hline \end{array}$ </td> </tr> <tr> <td style="text-align: center;">خارج قسمت :</td> <td style="text-align: center;">خارج قسمت :</td> </tr> <tr> <td style="text-align: center;">باقیمانده :</td> <td style="text-align: center;">باقیمانده :</td> </tr> </table>	$\begin{array}{r} 39 \\ \underline{7} \\ \hline \end{array}$	$\begin{array}{r} 82 \\ \underline{9} \\ \hline \end{array}$	خارج قسمت :	خارج قسمت :	باقیمانده :	باقیمانده :	۱۶
$\begin{array}{r} 39 \\ \underline{7} \\ \hline \end{array}$	$\begin{array}{r} 82 \\ \underline{9} \\ \hline \end{array}$							
خارج قسمت :	خارج قسمت :							
باقیمانده :	باقیمانده :							

موفق باشید