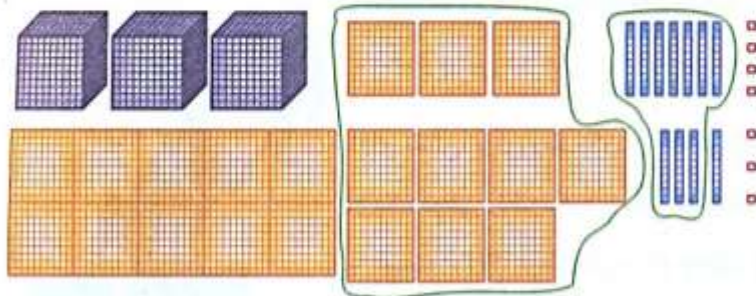


۱- در یک مسابقه، مجید ۳۵۷۴ عدد امتیاز دارد. او در مرحله‌ی بعد ۲۱۳۲ امتیاز

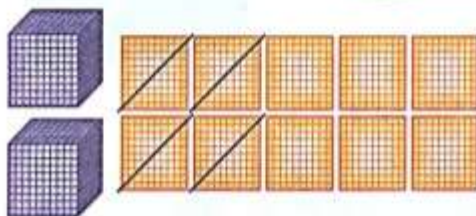
دیگر کسب می‌کند. حالا در پایان این مرحله مجید کلاً چند امتیاز دارد؟

| هـ  | ص | د | ی |
|-----|---|---|---|
| ۳   | ۵ | ۷ | ۴ |
| + ۲ | ۱ | ۳ | ۲ |

۲- جمع و تفریقی را که شکل‌های زیر نشان می‌دهد، در جدول ارزش مکانی بنویس.



| هـ | ص | د | ی |
|----|---|---|---|
|    |   |   |   |
| +  |   |   |   |
|    |   |   |   |



| هـ | ص | د | ی |
|----|---|---|---|
|    |   |   |   |
| -  |   |   |   |
|    |   |   |   |

۳- برای جمع‌ها و تفریق‌های زیر شکل بکش.

$$\begin{array}{r} 2034 \\ + 1025 \\ \hline \end{array}$$

$$\begin{array}{r} 3437 \\ + 3216 \\ \hline \end{array}$$



$$\begin{array}{r} 7926 \\ - 3214 \\ \hline \end{array}$$

$$\begin{array}{r} 8372 \\ - 3461 \\ \hline \end{array}$$







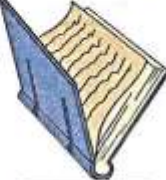



۴- بزرگ‌ترین و کوچک‌ترین عدد چهاررقمی را بنویس.

بزرگ‌ترین: \_\_\_\_\_ کوچک‌ترین: \_\_\_\_\_  
 اختلاف این دو عدد چه قدر است؟ \_\_\_\_\_  
 مجموع این دو عدد چند رقمی است؟ \_\_\_\_\_

۵- آقای نقاش، برای رنگ کردن خانه‌ای احتیاج دارد چند قوطی رنگ بخرد. او یک قوطی رنگ سفید به قیمت ۲۳۴۷ تومان و یک قوطی رنگ طوسی به قیمت ۳۷۲۶ تومان خرید. او چه قدر پول به فروشنده داده است؟



۶- پدر ریحانه به او برای خرید از فروشگاه ۹۸۵۰ تومان پول داده است.

|   |   |   |  |   |
|---|---|---|--|---|
|  |  |  |  |  |
| تومان ۲۷۲۶  | تومان ۷۹۰۰  | تومان ۵۲۳۶  | تومان ۲۷۱۸   | تومان ۱۲۰۰  |
|  |  |  |  |  |
| تومان ۵۲۳۶  | تومان ۳۷۰۰  | تومان ۷۰۰   | تومان ۲۵۰۰   | تومان ۲۷۹۶  |



الف) اگر او یک دمپایی و جوراب بخرد، چه قدر باید به فروشنده پول بدهد؟

ب) چه قدر از پول او باقی مانده است؟

پ) اگر او از این فروشگاه، فقط لوازم التحریر بخرد چه قدر باید به فروشنده بدهد؟

ت) گران ترین جنس این فروشگاه چیست؟ چه قیمتی دارد؟

۷- در هر قسمت مقدار خواسته شده از سکه ها را رنگ بزن (خط بزن) و محاسبات خود را در جدول ارزش مکانی و خارج آن کامل کن.

الف) ۳۷۲۶



چه قدر باقی مانده است؟

| هـ | ص | د | ی    |
|----|---|---|------|
|    |   |   |      |
|    |   |   | ۳۷۲۶ |
| ۳  | ۷ | ۲ | ۶    |

ب) ۱۵۷۰



چه قدر باقی مانده است؟

| هـ | ص | د | ی    |
|----|---|---|------|
|    |   |   |      |
|    |   |   | ۱۵۷۰ |
| ۱  | ۵ | ۷ | ۰    |

۳- برای کمک در جشن نیکوکاری مهدی ۳۷۲۶ تومان، محسن ۴۲۳۲ تومان و رضا ۱۲۳۶ تومان کمک کرده اند. آن ها روی هم چند تومان به صندوق جشن نیکوکاری ریخته اند؟

