

۱- عدد را از جدول بیرون بیاور و با رقم و حروف بنویس و برای آن شکل بکش.

--

به رقم:	یکی	ده تایی
به حروف:	۹	۳

۲- شکل را ببین و رقم های آن را در جدول ارزش مکانی قرار بده.

--

یکی	ده تایی	صد تایی

۳- جدول را کامل کن.

				شکل
	دایره			نام شکل
				تعداد گوشه ها


۴- در باغ وحش ۹ خرگوش سفید و ۶ خرگوش خاکستری بود ۴ تا از خرگوش ها را به جای دیگر بردند. حالا چند خرگوش در باغ وحش مانده است؟

..... + =

در باغ وحش خرگوش بود.

..... - =

حالا در باغ وحش خرگوش مانده است.



۴- برای هر نشانه ۳ کلمه بنویس.

			ز
			ذ
			ض
			ظ

۵- جمله بساز.

..... طرف شویی ، مادر:

..... نظم ، رضا:


..... مواظب ، برادر:

۶- عزیزم چه موقع سلام می کنیم؟

.....

۷- چه موقع خداحافظی می کنیم؟

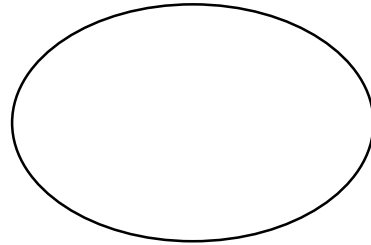
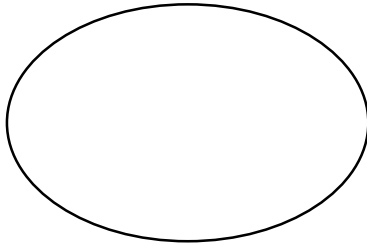
.....



۱- کدام قسمت آهن ربا قوی تر است؟.....

۲- در زمان های بسیار قدیم مردم برای روشنایی از چه چیزهایی استفاده می کردند؟

۳- در جاهای خالی ۲ مدل آهن ربا بکش.



۴- گرمای زمین از کجا به دست می آید؟







۵- امروز برای مطالعه از چه وسیله ای استفاده می کنیم؟







۶- کدام وسیله برای روشن شدن نیاز به باتری دارد؟





