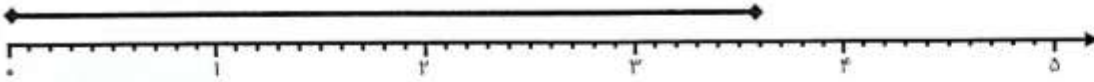




فصل هفتم

کسر و احتمال

۱. طول شکل های زیر را اندازه بگیرید و جاهای خالی را کامل کن.

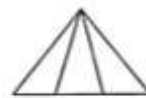



طول خط سانتی متر و قسمت از ۱۰ قسمت است.



طول خط سانتی متر و قسمت از ۱۰ قسمت است.

۲. هر شکل زیر به چند قسمت مساوی تقسیم شده است؟



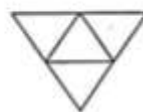
۳. با توجه به کسر زیر هر شکل، از قسمت های مساوی آن رنگ کن.




$$\frac{4}{8}$$



$$\frac{1}{3}$$



$$\frac{2}{4}$$



$$\frac{9}{12}$$

۴. یک مربع بکش که طول هر ضلع آن ۳ سانتی متر باشد.

مربع را به ۴ قسمت مساوی تقسیم کن.

۳ قسمت آن را رنگ کن.

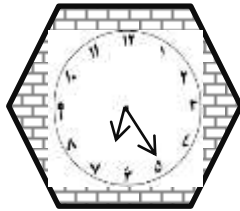
قسمت رنگ شده از نصف بیشتر است یا کم تر؟

۵. در داخل یک کیسه ۱۰ مهره قرمز و ۵ مهره آبی وجود دارد. اگر بدون نگاه کردن یک مهره از داخل کیسه در بیاوریم شانس بیرون آمدن

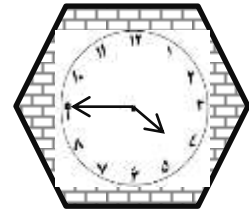
کدام رنگ بیش تر است؟ چرا؟

.....
.....

۶. با توجه به هر ساعت به سوال ها جواب بده.



چند دقیقه قبل ساعت ۶ و ربع بوده است؟



چند دقیقه قبل ساعت ۴ و نیم بوده است؟

۷. شکل های زیر را دسته بندی و جمله های زیر را کامل کن.



..... دسته ی تایی



..... دسته ی تایی

$$\begin{array}{r} 723 \\ - 649 \\ \hline \end{array}$$

۸. حاصل جمع و تفریق زیر را از راه انتقال به دست آور.

$$\begin{array}{r} 536 \\ + 284 \\ \hline \end{array}$$

۹. مجید ۷۴۲ ریال پول داشت. او با ۴۳۹ ریال برای مادرش هدیه ای خرید و یک پاک کن به قیمت ۹۴ ریال برای خودش خرید.

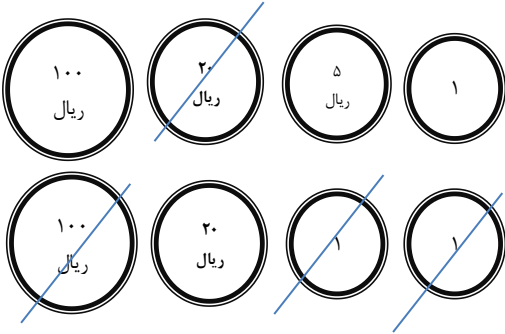
الف) او چند ریال خرید کرده است؟

ب) چند ریال برای او باقی مانده است؟



۱۰. قد مریم ۱ متر و ۲۹ سانتی متر است. قد او چند سانتی متر است؟
اگر برادرش ۸۹ سانتی متر باشد، قد مریم چه قدر بیشتر است؟

۱۱. برای شکل تفریق بنویس.



۱۲. یک خط به طول ۵ سانتی متر بکش و آن را از صفر تا ۵ مدرج کن.

*۱۳. منزل رویا تا نانوايي ۱۵ دقیقه فاصله دارد. رویا در یک رفت و برگشت چند دقیقه راه رفته است؟

سؤال ستاره دار

- الف) ۲۰ دقیقه ب) ۳۰ دقیقه
- ج) نیم ساعت د) گزینه ب و ج درست است.