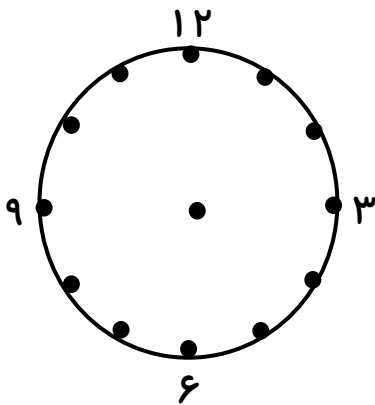


ریاضی

۱- به کمک ساعت زیر ، نوع زاویه ی بین عقربه های ساعت شمار و دقیقه شمار را در هر یک از موارد مشخص کنید.



الف) ساعت ۳ بعد از ظهر :

ب) ساعت ۴ و ۳۰ دقیقه :

ج) ساعت ۱۰ و ۴۵ دقیقه :

د) ساعت ۱۴ و ۵۰ دقیقه :

۲- با توجه به شکل ، نوع زاویه های خواسته شده را مشخص کنید. (تند - باز - راست - نیم صفحه)

..... : ل و ش

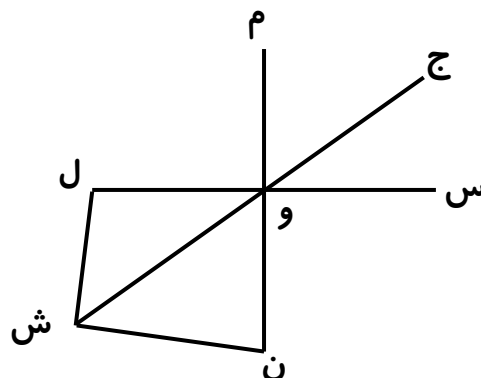
..... : م و س

..... : س و ن

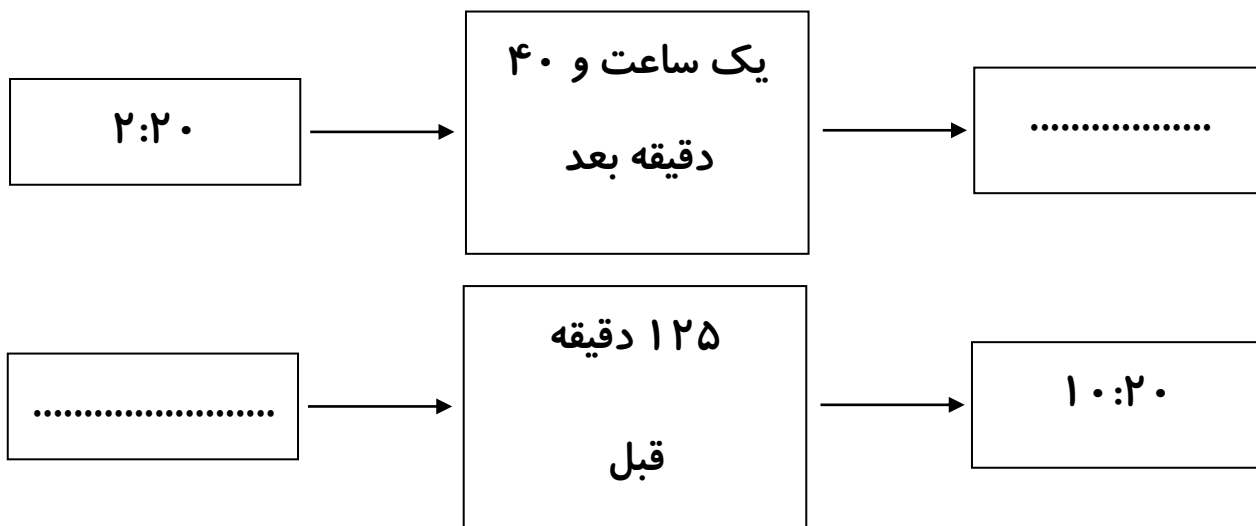
..... : ش و س

..... : ش ل و

..... : ج و س



۳- در هریک از ماشین های زمان ، ورودی ها و یا خروجی ها را بنویسید.



۴- مساحت شکل های زیر را به دست آورید.

