




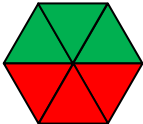
۱. با توجه به متن زیر صفحه ی چرخنده ی مقابل را کامل و رنگ آمیزی کنید .




۴ قسمت از ۸ قسمت شکل آبی است .

۳ قسمت از ۸ قسمت شکل سبز است .

۱ قسمت از ۸ قسمت شکل قرمز است .

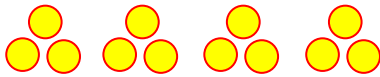


۱



۲

۲. در کدام هدف تیر با شانس بیش تری به رنگ قرمز برخورد می کند ؟ چرا ؟



..... دسته ی ..... تایی



..... دسته ی ..... تایی


۳. در جای خالی عدد مناسب بنویسید .

۴. در هر قسمت با توجه به نوشته ، شکل مناسب بکشید .

۲ دسته ی ۴ تایی



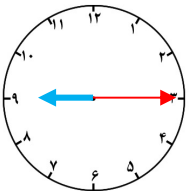
۵ دسته ی ۲ تایی



۵. ساعت چند است ؟ ..... اگر عقربه ی بزرگ ۱۵ دقیقه حرکت کند ، مقدار چرخش عقربه ی بزرگ

چند قسمت از صفحه ی ساعت است ؟

با رنگ کردن نشان دهید .



۶. در مورد هر شکل جملات را کامل کنید .



..... قسمت از ..... قسمت مساوی رنگ شده است .

..... قسمت از ..... قسمت مساوی رنگ شده است .

۷. جمع و تفریق های زیر را از راه کوتاه انجام دهید .

$$\begin{array}{r} 237 \\ + 374 \\ \hline \end{array}$$

$$\begin{array}{r} 245 \\ + 356 \\ \hline \end{array}$$

$$\begin{array}{r} 326 \\ - 287 \\ \hline \end{array}$$

$$\begin{array}{r} 472 \\ - 289 \\ \hline \end{array}$$

۸. یک کتاب داستان ۱۷۳ صفحه دارد . علی ۴۸ صفحه را هفته ی قبل خوانده بود .

این هفته ۶۴ صفحه ی دیگر را خواند . چند صفحه از کتاب باقی مانده است ؟

.....