

به نام پگانه آفریننده ی زیبایی ها

دستان غیر دولتی آرمان دانش

تاریخ: ۹۶/۲/۱

نام و نام خانوادگی:



۱. در هر مورد عبارت مناسب را انتخاب کنید.

حتما اتفاق می افتد

شاید اتفاق بیفتد

اصلا اتفاق نمی افتد

😊 همه ی دانش آموزان کلاس چهارم در المپیاد ریاضی پذیرفته شوند

😊 در فصل تابستان برف بیارد

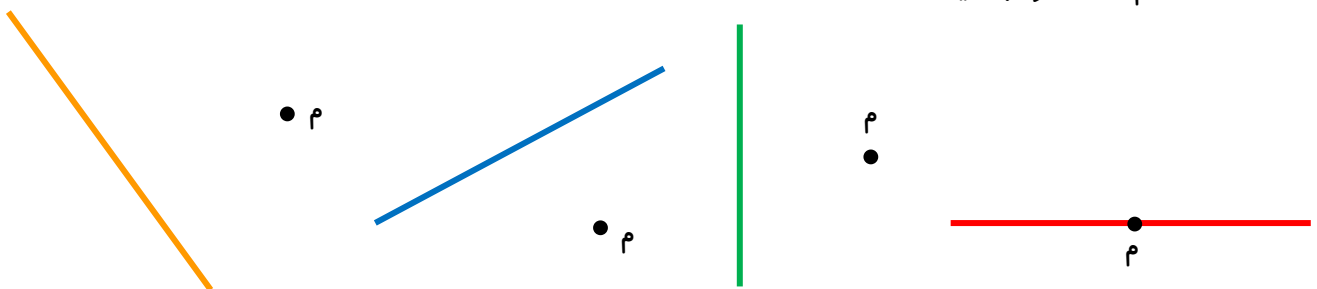
😊 دانش آموزی پس از کلاس سوم به کلاس چهارم برود

😊 یک درخت تنومند به نهال تبدیل شود

😊 در یکی از روزهای فصل بهار، هوا آفتابی باشد


😊 پرندگان در زمستان به مناطق سردسیر کوچ کنند

۲. از نقطه (م) خط عمود بکشید.

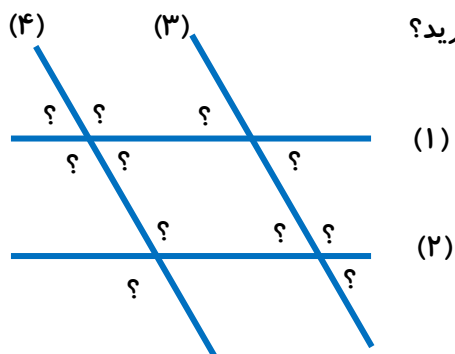


۳. کدام یک از شکل های زیر دارای زاویه راست (عمود) است؟ آن ها را با علامت قرمز مشخص کن و شکل را رنگ

آمیزی کن.



۴. زاویه های زیر را با کمک نقاله اندازه بگیرید. چه نتیجه ای می گیرید؟



۵. با توجه به شکل داده شده ، هر عبارت را کامل کنید.



..... مربع ، متوازی الاضلاعی است که ★



..... متوازی الاضلاعی است که ★

..... مستطیل ★