



«به نام خدا»

آزمون ریاضی سوم ابتدایی از فصل ۷

تاریخ آزمون: .....

نام و نام خانوادگی: ..... مدرسه: ..... وقت آزمون: ۴۰ دقیقه

۱ عددی را سه برابر کرده و حاصل آن را با ۵ جمع کرده ایم. جواب ۱۷ شد. آن عدد را پیدا کنید.

۲ سکه ای را ۱۰ بار انداختیم نتایج زیر حاصل شد. کسرهای مربوط به آن ها را مقابل هر کدام بنویس.


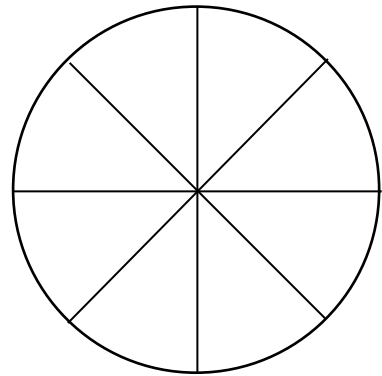

رو: ۶ بار      پشت: ۴ بار

تعداد کتاب های مدرسه ی شاهد بوعلی و موضوع آن ها در جدول زیر مشخص شده است.

نوع کتاب	علمی	داستانی	مذهبی	کمک درسی
تعداد کتاب	۸۰	۴۰	۲۰	۲۰

۳

نمودار دایره ای و ستونی مربوط به این جدول را رسم کنید.



وضعیت من در این آزمون:

بازخورد آموزگار: .....