

## آدینه‌ی پایه‌ی دوم دبستان



۱- اندازه طول هر شکل را با کامل کردن جاهای خالی نشان بدهید.

الف) طول ساعت بین ..... و ..... چینه است.

ب) یعنی از ..... چینه بیشتر است ولی ..... چینه نمی رسد.

۲- به جای مربع عدد مناسب قرار بدهید و در جاهای خالی علامت مناسب بگذارید.

$$۲۰ + \square = ۴۳$$

$$\square + ۱۷ = ۵۱$$

$$۳۴ \bigcirc ۲۹$$

$$۲۰۱ \bigcirc ۹۹$$

$$۲۹۸ \bigcirc ۳۰۱$$

$$۱۷ \bigcirc ۱۹$$

$$۳۵۱ \bigcirc ۳۴۷$$

$$۴۲۰ \bigcirc ۴۱۷$$

۳- ساعت چند است؟



.....

.....

.....

۴- اندازه ی هر خط را با خط کش اندازه بگیرد و کنارش بنویسد.

\_\_\_\_\_ سانتی متر



\_\_\_\_\_ سانتی متر



\_\_\_\_\_ سانتی متر



\_\_\_\_\_ سانتی متر

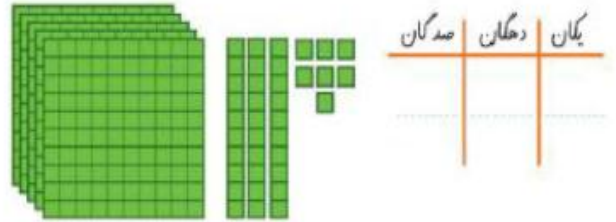
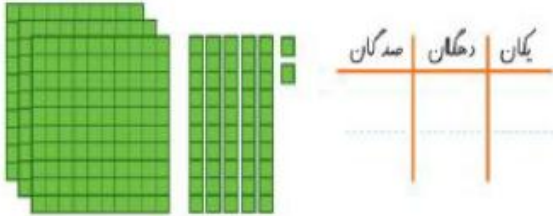


\_\_\_\_\_ سانتی متر



# آدینه‌ی پایه‌ی دوم دبستان

۵- عددی را که هر شکل نشان می‌دهد در جدول قرار بدهید، سپس با رقم و حروف بنویسید



.....

.....

۶- ارزش سکه‌ها را بنویسید.




ریال .....



ریال .....

۷- الگوی عددی زیر را ادامه دهید.



۸- جمع و تفریق‌های زیر را تکنیکی حل کن.

$$\begin{array}{r} 7 \quad 1 \quad 4 \\ - 3 \quad 2 \quad 3 \\ \hline \end{array}$$

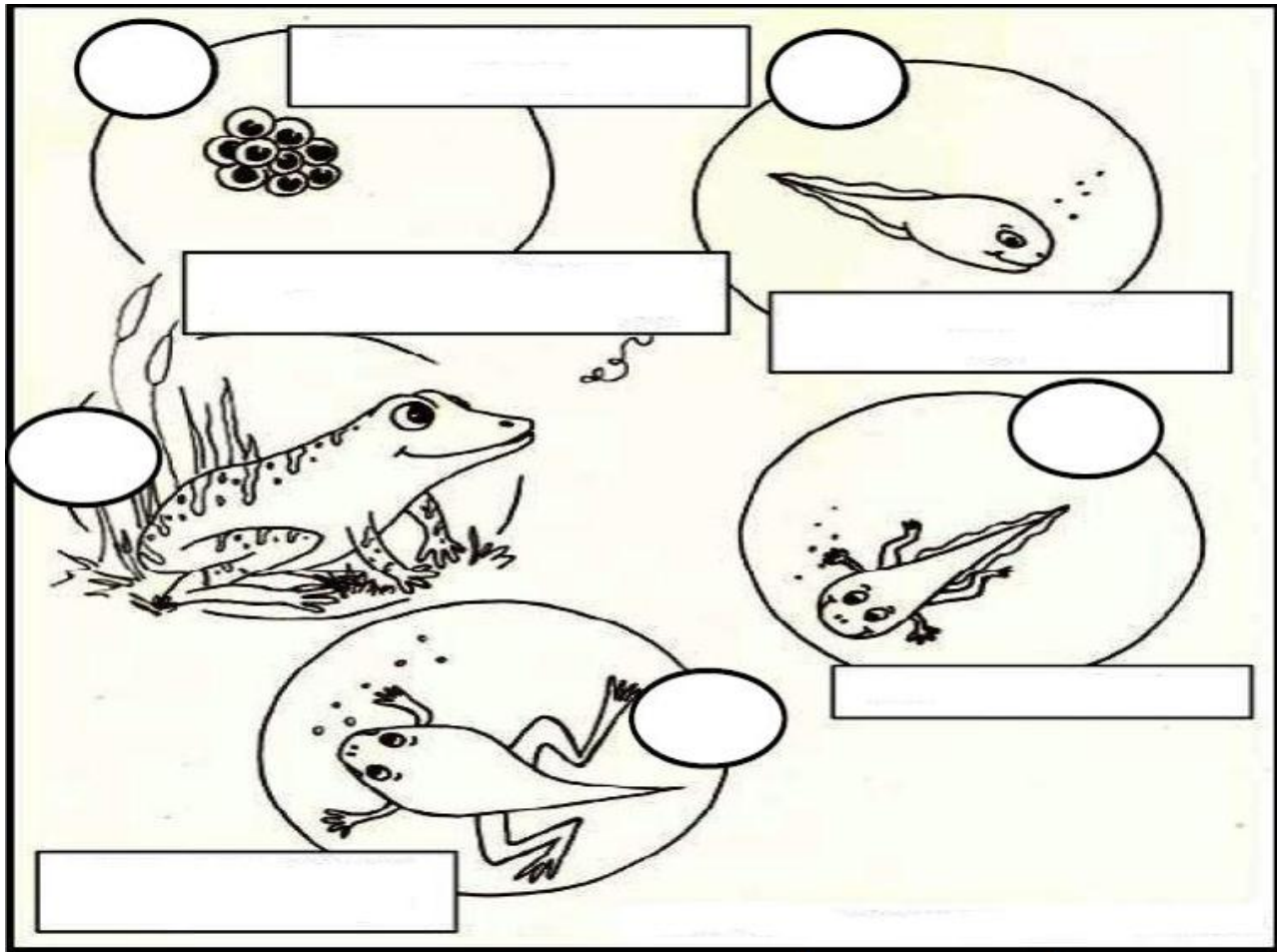
$$\begin{array}{r} 5 \quad 5 \quad 4 \\ + 3 \quad 1 \quad 5 \\ \hline \end{array}$$

$$\begin{array}{r} 7 \quad 2 \quad 2 \\ - 6 \quad 2 \quad 3 \\ \hline \end{array}$$

$$\begin{array}{r} 2 \quad 5 \quad 4 \\ + 5 \quad 9 \quad 9 \\ \hline \end{array}$$

علوم

۱- با توجه به مطالبی که در کلاس آموختید مراحل زندگی قورباغه را شماره گذاری کنید و برای هر مرحله یک جمله بنویسید



۲- هر جانور را به گزینه‌ی خودش وصل کنید.

- |          |   |
|----------|---|
| کانگورو  | پرنده‌ای است که لانه‌اش را می‌بافد              |
| پروانه   | جانوری که نوزادش را در کیسه‌اش نگه می‌دارد.     |
| قورباغه  | جانوری که تخم می‌گذارد و زیر زمین لانه می‌سازد. |
| چرخ‌ریسک | روی شاخه پیله درست می‌کند.                      |
| مورچه    | چند مرحله از زندگی‌اش را در آب می‌گذراند.       |



## آدینه‌ی پایه‌ی دوم دبستان

- ۳- جاهای خالی را با کلمات مناسب پر کنید. (از کتاب علوم کمک بگیرید).  
 خرگوش ها غذای ..... و ..... هستند.  
 آشیانه چرخ ریسک ..... سوراخ و ..... پرنده دارد.  
 حیواناتی که بچه به دنیا می آورند به نوزاد خود ..... می دهند.  
 کرم ابریشم وقتی از تخم بیرون می آید مدتی ..... می خورد.

## فارسی

پاسخ درست را علامت بزنید.

۱- به کسی که از چیزی خبر دارد ..... می گویند.

بی خبر	خبردار	با خبر	خبرچین
--------	--------	--------	--------

۲- در کدام کلمه نشانه (و) صدای (و) می دهد.

خود	آموزگار	سرود	برویم
-----	---------	------	-------

۳- کسی که هدف ندارد ..... است.

بی هدف	با هدف	هدفدار	بی کار
--------	--------	--------	--------

۴- کدام کلمه با (کوشا) هم خانواده نیست.

کوشش	می کوشد	پوشاک	کوشیدن
------	---------	-------	--------

۵- کدام یک از بستگان مادر هستند.

پسرعمه	عمه	دختردایی	عمو
--------	-----	----------	-----

۶- ارگ بم در کجا قرار دارد؟

مشهد	کرمان	کرمانشاه	اصفهان
------	-------	----------	--------



تلگرام معلم یار  
Telegram.me/MoallemYarir

به ما بپیوندید | Join To Telegram