



ریاضی


۱- حاصل کوچک ترین و بزرگترین عدد دو رقمی کدام است؟

- ۱۰۹ (۱) ۱۱۰ (۲) ۱۱۱ (۳) ۱۹۰ (۴)

۲- در کیسه ای ۳۰ مهره آبی و ۵۰ مهره قرمز ریختیم و بعد ۲۰ مهره قرمز از این کیسه برداشتیم. حالا اگر یک مهره از کیسه برداریم احتمال کدام رنگ بیشتر است؟

- قرمز (۱) آبی (۲) سبز (۳) هر دو رنگ مساوی است (۴)

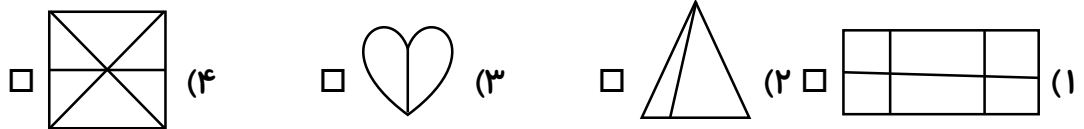
۳- قسمت از قسمت مساوی رنگ شده است.



- ۱۰ - ۵ (۱) ۱۰ - ۶ (۲)

- ۸ - ۶ (۳) ۸ - ۵ (۴)

۴- کدام یک از شکل های زیر به قسمت های مساوی تقسیم شده است؟



۵- چهار شبانه روز چند ساعت است؟

- ۴۸ (۱) ۷۲ (۲) ۹۶ (۳) ۶۹ (۴)

۶- اگر نصف عدد ۶ را با بزرگ ترین عدد زوج یک رقمی جمع کنیم چه عددی به دست می آید؟

- ۱۲ (۱) ۱۵ (۲) ۱۳ (۳) ۱۱ (۴)

۷- ساعت ۷:۲۵ دقیقه است، ۳ ربع دیگر ساعت چند است؟

- ۸:۰۵ (۱) ۸:۱۰ (۲) ۸:۱۵ (۳) ۸ (۴)

۸- جواب جمع مقابل کدام گزینه است؟


$$\begin{array}{r} + 527 \\ 398 \\ \hline \end{array}$$

- ۹۲۳ (۴) ۹۲۴ (۳) ۹۲۶ (۲) ۹۲۵ (۱)

۹- جواب تفریق مقابل کدام گزینه است؟

$$\begin{array}{r} 903 \\ - 274 \\ \hline \end{array}$$

- ۶۲۶ (۴) ۶۲۷ (۳) ۶۲۹ (۲) ۶۲۸ (۱)



۱۰- در یک جعبه ۳۵۰ شکلات و در جعبه دیگر ۱۴۰ شکلات کم تر از جعبه‌ی اولی شکلات است. در این دو جعبه چند شکلات است؟

۱۱- گل فروشی ۲۳۵ شاخه گل رز و ۱۴۹ شاخه گل نرگس و ۸۵ گل میخک خرید. او جمعاً چند شاخه گل خریده است؟

۱۲- روی محور دو واحد کامل و ۳ قسمت از ۴ قسمت مساوی را نشان بده.

۱۳- مریم ۸۱۰ سانتی متر پارچه خرید. با ۲۹۰ سانتی متر آن پالتو و با ۱۴۲ سانتی متر آن شلوار دوخت. او برای دوختن مانتو و شلوار چند سانتی متر پارچه استفاده کرده؟ چند سانتی متر برایش باقی مانده است؟

علوم

۱- احمد غذاهای مفید خورده و حمام رفته، مسواک زده و دست هایش را شسته پس چرا مریض شده است؟

(۱) میکروب وارد بدنش شده است. (۲) به موقع و به اندازه کافی خوابیده است.

(۳) به درستی مسواک نزده است. (۴) همه‌ی موارد

۲- میکروب‌ها در کجا زندگی می‌کنند؟

(۱) میوه‌های نشسته (۲) دندان‌های تمیز (۳) غذاهای تازه (۴) همه‌ی موارد

۳- برای رشد استخوان ها به کدام نوع غذا بیش تر احتیاج داریم؟

- (۱) شیر (۲) مرغ (۳) نان (۴) سبزیجات

۴- کدام دسته از جانوران زیر بچه را نیستند؟

- (۱) گربه (۲) کانگرو (۳) ماهی (۴) شیر

۵- برای موارد زیر چند مورد مثال بنویسید. (۲ مورد)

تبدیل جامد به مایع

.....

تبدیل مایع به جامد

.....

۶- وقتی چراغ راهنمایی و رانندگی به رنگ سبز است یعنی و وقتی به رنگ زرد است

یعنی و وقتی به رنگ قرمز است یعنی کنیم.

- اجسامی مثل لیوان شیشه ای و بطری، نور خورشید را از خود و اجسامی مثل

..... و نور خورشید را از خود عبور نمی دهند.

- صدای آژیر ماشین آتش نشانی و صدای آمبولانس هستند.

- از جا به جا شدن هوای گرم و سرد به وجود می آید.

- در فصل درختان شکوفه می زنند.

- لویا و عدس هستند و برنج است.

- یک بسته پودر ژله را در ظرف آبی می ریزیم و مخلوط می کنیم و به شکل


در می آید، سپس در یخچال می گذاریم، بعد از چند ساعت ژله به شکل در

می آید.

فارسی

۱- کدام کلمه به صورت درست جمع بسته شده است؟

- (۱) نردبان (۲) گرسنگان (۳) ستارگان (۴) درختان



۲- متضاد کدام کلمه اشتباه است؟

- (۱) راست گو = دروغ گو (۲) ستم کار = نیکو کار
 (۳) بیرون = درون (۴) نو = جدید

۳- شعر ((با پرستوهای شاد)) از کیست؟

- (۱) مصطفی رحمان دوست (۲) محمود پروهاب (۳) افشین علاء (۴) شاهد

۴- به لباسی که از جنس پشم باشد و کسی که اهل یزد باشد چه می گویند؟

- (۱) پشمی - یزدی (۲) یزدی - پشمی (۳) ابریشمی - یزدی (۴) یزدی - ابریشمی

۵- املاي کدام کلمه غلط است؟

- (۱) ریاضی (۲) ضلع (۳) وست (۴) سلطان

۶- در هنگام لحظه‌ی سال تحویل همه‌ی اعضای خانواده در کنار می نشینند.

- (۱) سفره‌ی شام (۲) سفره هفت سین (۳) سفره‌ی افطار (۴) سفره‌ی ناهار

۷- برای اشاره به دور از کلمه‌ی استفاده می کنیم.

- (۱) همین (۲) همان (۳) اون (۴) همه‌ی موارد

۸- پرچم نشانه‌ی و یک کشور است. به محل آزمایش

می گویند. به پسر خواهر مادر می گوئیم. تخت جمشید در نزدیکی

است. آقای احمدی به عنوان دانشجو در دانشگاه معرفی شد. هم خانواده مغرب

..... و و هم خانواده هنر و می شود.

۹- جمله‌ی در هم ریخته‌ی زیر را مرتب کنید.

((حالا - در - شکل - دوباره - دلتان - ابر - چرا - ؟ - می خواهد - به - بیايد))

.....

۱۰- جاهای خالی را کامل کنید.

..... به کتابخانه

من به کتابخانه خواهم رفت.

..... به کتابخانه

..... به کتابخانه خواهی رفت.

.....

او به کتابخانه

